

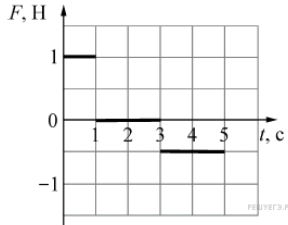
Вариант № 4920107

1.

Велосипедист, двигаясь под уклон, проехал расстояние между двумя пунктами со скоростью, равной 15 км/ч. Обрато он ехал вдвое медленнее. Какова средняя путевая скорость на всем пути? (Ответ дайте в километрах в час.)

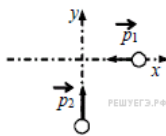
2.

Материальная точка массой 2 кг движется вдоль горизонтальной оси Ox под действием горизонтальной силы F . В начальный момент времени тело покоилось. График зависимости силы F от времени t изображён на рисунке. Чему равен импульс материальной точки в конце второй секунды? (Ответ дайте в кг·м/с.)



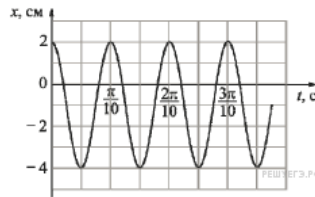
3.

По гладкой горизонтальной плоскости по осям x и y движутся две шайбы с импульсами, равными по модулю $p_1 = 1,5$ кг·м/с и $p_2 = 3,5$ кг·м/с, как показано на рисунке. После соударения вторая шайба продолжает двигаться по оси y в прежнем направлении с импульсом, равным по модулю $p_3 = 1,5$ кг·м/с. Определите модуль импульса первой шайбы после удара. Ответ приведите в кг·м/с.



4.

Точечное тело совершает гармонические колебания, двигаясь вдоль прямой линии. Школьник построил график зависимости координаты x этого тела от времени t (показан на рисунке). Чему равна максимальная скорость движения тела? Ответ выразите в м/с.



5.

Из начала декартовой системы координат в момент времени $t = 0$ тело (материальная точка) брошено под углом к горизонту. В таблице приведены результаты измерения координат тела x и y в зависимости от времени наблюдения. Выберите два верных утверждения на основании данных, приведённых в таблице.

Время, с	0,1	0,2	0,3	0,4	0,5	0,6	0,7	0,8
Координата x , м	0,3	0,6	0,9	1,2	1,5	1,8	2,1	2,4
Координата y , м	0,35	0,60	0,75	0,80	0,75	0,60	0,35	0

- 1) В момент времени $t = 0,4$ с скорость тела равна 3 м/с.
- 2) Проекция скорости V_y в момент времени $t = 0,2$ с равна 2 м/с.
- 3) Тело бросили со скоростью 6 м/с.
- 4) Тело бросили под углом 45° .
- 5) Тело поднялось на максимальную высоту, равную 1,2 м.

6.

Подвешенный на пружине груз совершает вынужденные гармонические колебания под действием внешней силы, изменяющейся с частотой ν . Установите соответствие между физическими величинами, характеризующего этот процесс, и частотами их изменения.

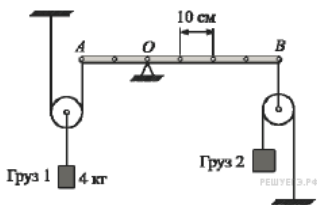
К каждому элементу первого столбца подберите соответствующий элемент из второго и внесите в строку ответов выбранные цифры под соответствующими буквами.

ФИЗИЧЕСКИЕ ВЕЛИЧИНЫ	ЧАСТОТА ИЗМЕНЕНИЯ ВЕЛИЧИН
А) Кинетическая энергия груза	1) $\frac{1}{2}\nu$
Б) Ускорение груза	2) ν
В) Потенциальная энергия груза	3) 2ν

А	Б	В

7.

Лёгкая рейка может вращаться вокруг неподвижной горизонтальной оси, проходящей через точку O . Рейка уравновешена при помощи двух грузов, которые прикреплены к рейке лёгкими нитями, перекинутыми через идеальные блоки так, как показано на рисунке. Груз 1 имеет массу 4 кг.



Установите соответствие между физическими величинами и их значениями в единицах СИ. К каждой позиции первого столбца подберите соответствующую позицию из второго столбца и запишите в таблицу выбранные цифры под соответствующими буквами.

ФИЗИЧЕСКАЯ ВЕЛИЧИНА	ЕЁ ЗНАЧЕНИЕ (В СИ)
А) масса груза 2	1) 0,5
Б) момент силы натяжения нити, прикреплённой в точке B , относительно оси, проходящей через точку O	2) 4
	3) 32
	4) 160

А	Б

8.

При построении температурной шкалы Реомюра принимается, что при нормальном атмосферном давлении лёд тает при температуре 0 градусов Реомюра ($^{\circ}R$), а вода кипит при температуре 80 $^{\circ}R$. Найдите, чему равна средняя кинетическая энергия поступательного теплового движения частицы идеального газа при температуре 91 $^{\circ}R$. Ответ выразите в эВ и округлите до сотых долей.

9.

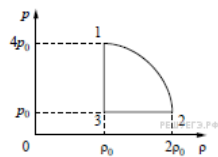
Один моль идеального одноатомного газа, находящегося при температуре +27 $^{\circ}C$, изобарически нагревают. При этом абсолютная температура этого газа увеличивается в 3 раза. Определите, чему равно количество теплоты, сообщённое этому газу. Ответ выразите в Дж.

10.

В цилиндрический сосуд, герметично закрытый подвижным поршнем, вприсунули некоторое количество воды, после чего сдвинули поршень и дождались установления в сосуде теплового равновесия — получилось состояние 1. Затем поршень передвинули ещё раз, увеличив объём пространства под поршнем в 3 раза при постоянной температуре. Оказалось, что в результате этого давление водяного пара в сосуде уменьшилось в 2 раза (по сравнению с состоянием 1). Какая была относительная влажность (в процентах) в сосуде в состоянии 1?

11.

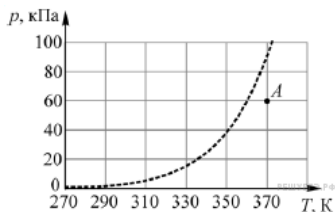
На рисунке показана зависимость давления газа p от его плотности ρ в циклическом процессе, совершаемом 2 моль идеального газа в идеальном тепловом двигателе. Цикл состоит из двух отрезков прямых и четверти окружности. На основании анализа этого циклического процесса выберите два верных утверждения.



- 1) В процессе 1–2 температура газа уменьшается.
- 2) В состоянии 3 температура газа максимальна.
- 3) В процессе 2–3 объём газа уменьшается.
- 4) Отношение максимальной температуры к минимальной температуре в цикле равно 8.
- 5) Работа газа в процессе 3–1 положительна.

12.

Водяной пар находится в сосуде объёмом 10 литров при давлении 60 кПа (точка A на графике). Используя график зависимости давления p насыщенных паров воды от температуры T , приведённый на рисунке, определите, как будут изменяться масса пара и его внутренняя энергия при изотермическом уменьшении объёма, занимаемого паром, на 10%.



Для каждой величины определите соответствующий характер изменения:

- 1) увеличится;
- 2) уменьшится;
- 3) не изменится.

Запишите в таблицу выбранные цифры для каждой физической величины. Цифры в ответе могут повторяться.

Масса пара	Внутренняя энергия пара

13.

Фотон с длиной волны, соответствующей красной границе фотоэффекта, выбивает с поверхности пластинки электрон, который попадает в электрическое поле с напряженностью 125 В/м. Найти расстояние, которое он пролетит прежде, чем разгонится до скорости, равной 1% от скорости света. Ответ выразите в см и округлите до целого числа.

14.

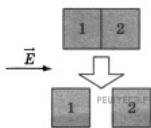
Два точечных заряда — отрицательный, равный по модулю 3 мкКл, и положительный, равный по модулю 4 мкКл, расположены на расстоянии 1 м друг от друга. На расстоянии 1 метр от каждого из этих зарядов помещают положительный заряд Q , модуль которого равен 2 мкКл. Определите модуль силы, действующей на заряд Q со стороны двух других зарядов. Ответ выразите в мН и округлите до целого числа.

15.

В состав колебательного контура входят конденсатор ёмкостью 2 мкФ, катушка индуктивности и ключ. Соединение осуществляется при помощи проводов с пренебрежимо малым сопротивлением. Вначале ключ разомкнут, а конденсатор заряжен до напряжения 8 В. Затем ключ замыкают. Чему будет равна запасённая в конденсаторе энергия через $1/6$ часть периода колебаний, возникших в контуре? Ответ выразите в мкДж.

16.

Два незаряженных стеклянных кубика 1 и 2 сблизили вплотную и поместили в электрическое поле, напряженность которого направлена горизонтально вправо, как показано в верхней части рисунка. Затем кубики раздвинули и уже потом убрали электрическое поле (нижняя часть рисунка). Выберите из предложенного перечня два утверждения, которые соответствуют результатам проведенных экспериментальных исследований, и укажите их номера.



- 1) После того, как кубики раздвинули, заряд первого кубика оказался отрицателен, заряд второго — положителен.
- 2) После помещения в электрическое поле электроны из первого кубика стали переходить во второй.
- 3) После того, как кубики раздвинули, заряды обоих кубиков остались равными нулю.
- 4) До разделения кубиков в электрическом поле левая поверхность 1-го кубика была заряжена отрицательно.
- 5) До разделения кубиков в электрическом поле правая поверхность 2-го кубика была заряжена отрицательно.

17.

По длинному тонкому соленоиду течёт ток I . Как изменятся следующие физические величины, если увеличить радиус соленоида, оставляя без изменений число его витков и длину: модуль вектора индукции магнитного поля на оси соленоида, поток вектора магнитной индукции через торец соленоида, индуктивность соленоида.

Запишите в таблицу выбранные цифры для каждой физической величины. Цифры в ответе могут повторяться.

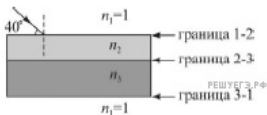
ФИЗИЧЕСКИЕ ВЕЛИЧИНЫ	ИХ ИЗМЕНЕНИЕ
А) модуль вектора индукции магнитного поля на оси соленоида	1) увеличилась 2) уменьшилась
Б) поток вектора магнитной индукции через торец соленоида	3) не изменилась
В) индуктивность соленоида	

Запишите в ответ цифры, расположив их в порядке, соответствующем буквам:

А	Б	В

18.

Две прозрачные плоскопараллельные пластинки плотно прижаты друг к другу. Из воздуха на поверхность первой пластинки падает луч света (см. рисунок). Известно, что синус угла преломления луча при переходе границы 2–3 между пластинками равен 0,4327. Установите соответствие между физическими величинами и их значениями. К каждой позиции первого столбца подберите соответствующую позицию из второго столбца и запишите в таблицу выбранные цифры под соответствующими буквами.



ФИЗИЧЕСКАЯ ВЕЛИЧИНА	ЕЁ ЗНАЧЕНИЕ
А) Синус угла преломления луча при переходе границы 3–1	1) $\approx 0,766$
Б) Показатель преломления n_3 нижней пластинки	2) $\approx 0,643$ 3) $\approx 1,770$ 4) $\approx 1,486$

А	Б

19.

В результате некоторого числа α -распадов и некоторого числа электронных β -распадов из ядра ${}^A_Z X$ получается ядро ${}^{A-8}_{Z-1} Y$. Чему равно число β -распадов в этой ядерной реакции?

20.

Современная зелёная лазерная указка обеспечивает генерацию лазерного луча площадью поперечного сечения 1 мм^2 и мощностью $0,3 \text{ Вт}$. Какая энергия запасена в одном кубическом сантиметре этого луча? Ответ выразите в нДж.

21.

Положительно заряженная альфа-частица, испущенная радиоактивным ядром, движется по направлению к атомному ядру, вектор скорости направлен под некоторым углом к прямой, соединяющей частицу с ядром. Изменяются ли перечисленные в первом столбце физические величины во время ее приближения к ядру и если изменяются, то как? Установите соответствие между физическими величинами, перечисленными в первом столбце, и их изменениями, перечисленными во втором столбце. Запишите в таблицу выбранные цифры под соответствующими буквами.

ФИЗИЧЕСКИЕ ВЕЛИЧИНЫ

- А) скорость
- Б) ускорение
- В) кинетическая энергия
- Г) потенциальная энергия
- Д) полная механическая энергия

ИХ ИЗМЕНЕНИЯ

- 1) не изменяется
- 2) увеличивается
- 3) уменьшается
- 4) увеличивается по модулю и изменяется по направлению
- 5) уменьшается по модулю и изменяется по направлению
- 6) увеличивается по модулю, не изменяется по направлению
- 7) уменьшается по модулю, не изменяется по направлению

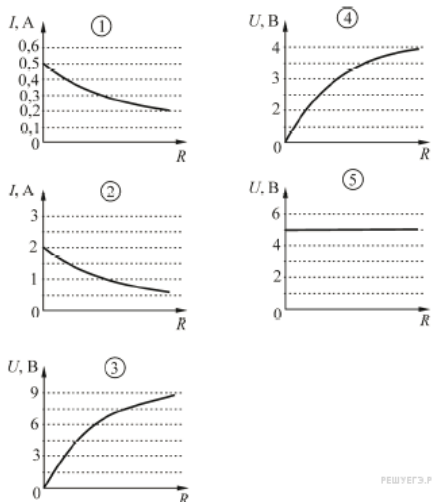
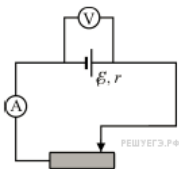
А	Б	В	Г	Д

22.

Чтобы оценить, с какой скоростью упадет на землю мяч с балкона 6-го этажа, используем для вычислений на калькуляторе формулу $v = \sqrt{2gh}$. По оценке «на глазок» балкон находится на высоте $(15 \pm 1) \text{ м}$ над землей. Калькулятор показывает на экране число $17,320508$. Чему равна, с учетом погрешности оценки высоты балкона, скорость мяча при падении на землю? (Ответ дайте в м/с, значение и погрешность запишите слитно без пробела.)

23.

Для электрической цепи, состоящей из источника постоянного напряжения, амперметра, вольтметра и реостата с переменным сопротивлением получены зависимости силы тока I и напряжения U от сопротивления R реостата. ЭДС источника равна 5 В , его внутреннее сопротивление 10 Ом . Измерительные приборы настолько хорошие, что их можно считать идеальными. Определите, какие две зависимости правильно изображены на рисунке (масштабы по осям, вдоль которых отложены значения сопротивлений, могут быть разными). Запишите в таблицу выбранные номера установок.



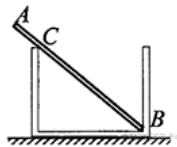
24.

Две совершенно одинаковые звезды расположены на небе так близко, что видны как одна звезда. Их суммарный видимый блеск равен 5 звёздным величинам. Видимый блеск одной из них (первой) равен 5,5 звёздных величин. Исходя из этого условия, выберите два верных утверждения.

- 1) Блеск второй звезды равен блеску первой звезды.
- 2) Блеск второй звезды равен $-0,5$ звёздным величинам.
- 3) Звёзды находятся на одинаковом расстоянии.
- 4) Вторая звезда дальше первой.
- 5) Если каждую из звёзд приблизить к нам в десять раз, то их суммарный блеск станет равен 0 звёздных величин.

25.

Однородный стержень AB массой $m = 100$ г покоится, упираясь в стык дна и стенки банки концом B и опираясь на край банки в точке C (см. рисунок). Модуль силы, с которой стержень давит на стенку сосуда в точке C , равен $0,5$ Н. Чему равен модуль вертикальной составляющей силы, с которой стержень давит на сосуд в точке B , если модуль горизонтальной составляющей этой силы равен $0,3$ Н? Трением пренебречь. Ответ укажите в ньютонах с точностью до одного знака после запятой.



26.

В закрытом сосуде под поршнем находится 4 г насыщенного водяного пара. Двигая поршень, занимаемый паром объем уменьшили в 2 раза, поддерживая температуру сосуда и его содержимого постоянной и равной 100 °С. Какое количество теплоты было при этом отведено от сосуда?

Справочные данные: удельная теплота парообразования воды $2,3 \cdot 10^6$ Дж/кг. Ответ округлите до целого числа кДж.

27.

Два когерентных источника света с одинаковой фазой колебаний располагаются на некотором расстоянии друг от друга. На соединяющем источниками отрезке на расстоянии $0,625$ мкм от его середины находится точка, для которой разность фаз между исходящими из источников волнами равна 5π . Чему равны длины волн, излучаемых каждым из источников? Ответ выразите в нм.

28.

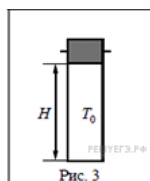
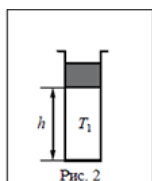
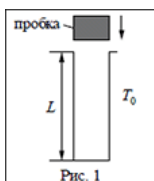
Если кольцо диаметром 3—4 см, согнутое из тонкой проволоки, окунуть в раствор мыла или стирального порошка, то, вынув его из раствора, можно обнаружить радужную пленку, затягивающую отверстие кольца. Если держать кольцо так, чтобы его плоскость была вертикальна, и рассматривать пленку в отраженном свете на темном фоне, то в верхней части пленки через некоторое время будет видно растущее темное пятно, окаймленное разноцветными полосами. Как чередуется цвет полос в направлении от темного пятна к нижней части кольца? Ответ поясните, используя физические закономерности.

29.

Тело, свободно падающее с некоторой высоты, первый участок пути проходит за время $\tau = 1$ с, а такой же последний — за время $\frac{1}{2}\tau$. Найдите полное время падения тела t , если его начальная скорость равна нулю.

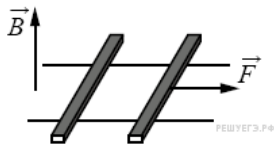
30.

В камере, заполненной азотом, при температуре $T_0 = 300$ К находится открытый цилиндрический сосуд (рис. 1). Высота сосуда $L = 50$ см. Сосуд плотно закрывают цилиндрической пробкой и охлаждают до температуры T_1 . В результате расстояние от дна сосуда до низа пробки становится $h = 40$ см (рис. 2). Затем сосуд нагревают до первоначальной температуры T_0 . Расстояние от дна сосуда до низа пробки при этой температуре становится $H = 46$ см (рис. 3). Чему равна температура T_1 ? Величину силы трения между пробкой и стенками сосуда считать одинаковой при движении пробки вниз и вверх. Массой пробки пренебречь. Давление азота в камере во время эксперимента поддерживается постоянным.



31.

По горизонтально расположенным шероховатым рельсам с пренебрежимо малым сопротивлением могут скользить два одинаковых стержня массой $m = 100$ г и сопротивлением $R = 0,1$ Ом каждый. Расстояние между рельсами $l = 10$ см, а коэффициент трения между стержнями и рельсами $\mu = 0,1$. Рельсы со стержнями находятся в однородном вертикальном магнитном поле с индукцией $B = 1$ Тл (см. рисунок). Под действием горизонтальной силы, действующей на первый стержень вдоль рельс, оба стержня движутся поступательно равномерно с разными скоростями. Какова скорость движения первого стержня относительно второго? Самоиндукцией контура пренебречь.



32.

У самой поверхности воды в реке летит комар, стая рыб находится на расстоянии 2 м от поверхности воды. Каково максимальное расстояние до комара, на котором он еще виден рыбам на этой глубине? Относительный показатель преломления света на границе воздух — вода равен 1,33.