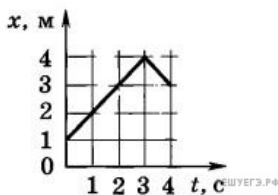


Вариант № 4920112

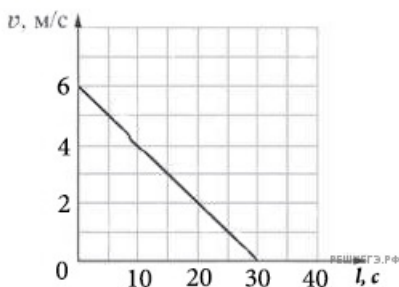
1.

На рисунке приведен график движения $x(t)$ электрокара. Определите по этому графику путь, проделанный электрокаром за интервал времени от $t_1 = 1$ с до $t_2 = 4$ с. (Ответ дайте в метрах.)



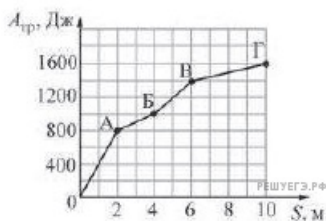
2.

Лифт массой 800 кг, закрепленный на тросе, поднимается вертикально вверх. На рисунке изображен график зависимости модуля скорости V лифта от времени t . Чему равна сила натяжения троса? Ответ выразите в ньютонах. Ускорение свободного падения примите равным 10 м/с^2 .



3.

Сани равномерно перемещают по горизонтальной плоскости с переменным коэффициентом трения. На рисунке изображён график зависимости модуля работы силы $A_{\text{тр}}$ от пройденного пути S .



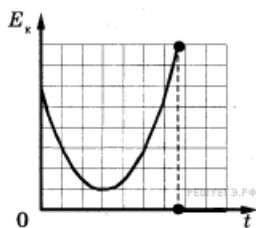
Каково отношение максимального коэффициента трения к минимальному на пройденном пути?

4.

В сосуде с водой, не касаясь стенок и дна, плавает деревянный (сосновый) кубик с длиной ребра 10 см. Кубик вынимают из воды, заменяют половину его объёма на материал, плотность которого в 5 раз больше плотности древесины, и помещают получившийся составной кубик обратно в сосуд с водой. На сколько увеличится модуль силы Архимеда, действующей на кубик? Ответ выразите в Н. (Плотность сосны — 400 кг/м^3 .)

5.

На рисунке представлен схематичный вид графика изменения кинетической энергии тела с течением времени. Выберите два верных утверждения, описывающих движение в соответствии с данным графиком.



- 1) В процессе наблюдения кинетическая энергия тела все время увеличивалась.
- 2) В конце наблюдения кинетическая энергия тела становится равной нулю.
- 3) Тело брошено под углом к горизонту с балкона и упало на землю.
- 4) Тело брошено под углом к горизонту с поверхности земли и упало обратно на землю.
- 5) Тело брошено вертикально вверх с балкона и упало на землю.

6.

Тело съезжает вниз по гладкой наклонной плоскости с начальной высоты H до уровня пола. Затем проводят опыт с другой наклонной плоскостью с меньшим углом наклона к горизонту; при этом начальную высоту H , с которой съезжает тело, оставляют прежней. Как в результате этого изменятся следующие физические величины: время соскальзывания тела до уровня пола, модуль скорости тела вблизи пола, модуль силы нормальной реакции наклонной плоскости?

Для каждой величины определите соответствующий характер изменения:

- 1) увеличится;
- 2) уменьшится;
- 3) не изменится.

Запишите в таблицу выбранные цифры для каждой физической величины. Цифры в ответе могут повторяться.

ФИЗИЧЕСКИЕ ВЕЛИЧИНЫ

- А) Время соскальзывания тела до уровня пола
Б) Модуль скорости тела вблизи пола
В) Модуль силы нормальной реакции наклонной плоскости

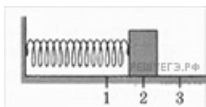
ИХ
ИЗМЕНЕНИЕ

- 1) увеличится
2) уменьшится
3) не изменится

А	Б	В

7.

Груз изображенного на рисунке пружинного маятника может совершать гармонические колебания между точками 1 и 3.



Период колебаний груза T . Графики А и Б представляют изменения физических величин, характеризующих колебания груза после начала колебаний из положения в точке 1.

ГРАФИКИ	ФИЗИЧЕСКИЕ ВЕЛИЧИНЫ
<p>А)</p>	<p>1) Потенциальная энергия пружинного маятника;</p> <p>2) Кинетическая энергия груза на пружине;</p> <p>3) Проекция скорости груза на ось Ox;</p> <p>4) Проекция ускорения груза на ось</p>
<p>Б)</p>	

Установите соответствие между графиками и физическими величинами, зависимости которых от времени эти графики могут представлять.

К каждой позиции первого столбца подберите соответствующую позицию второго и запишите в таблицу выбранные цифры под соответствующими буквами.

А	Б

8.

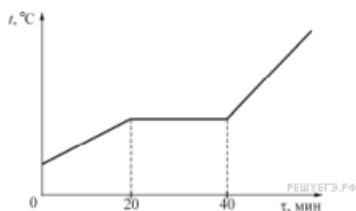
Концентрацию молекул одноатомного идеального газа уменьшили в 5 раз. Одновременно в 2 раза увеличили среднюю энергию хаотичного движения молекул газа. Чему равно отношение конечного давления к начальному?

9.

В гладкой горизонтальной трубе с площадью поперечного сечения 25 см^2 расположен поршень. Слева от поршня всё время поддерживается постоянное давление 200 кПа, а справа от него всё время поддерживается постоянное давление 400 кПа. В исходном состоянии к поршню прикладывают некоторую силу, удерживая его в равновесии. Какую работу нужно совершить для того, чтобы очень медленно переместить поршень на 10 см вправо?

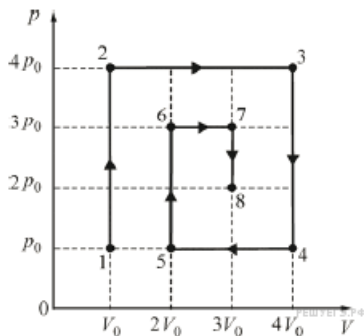
10.

Образец массой 3,6 кг, находящийся в твёрдом состоянии, поместили в электропечь и начали нагревать. На рисунке приведён график зависимости температуры t этого образца от времени τ . Известно, что мощность электропечи равна 0,6 кВт. Какова удельная теплота плавления образца (в кДж/кг)? Потерями теплоты при нагревании пренебречь.



11.

На рисунке приведена зависимость давления p идеального газа, количество вещества которого равно $\nu = 2$ моль, от его объёма V в процессе 1–2–3–4–5–6–7–8.

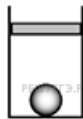


На основании анализа графика выберите **два** верных утверждения.

- 1) Работа газа в процессе 6–7 больше работы, которую совершили внешние силы над газом в процессе 4–5.
- 2) Температура газа в состоянии 8 выше температуры газа в состоянии 7.
- 3) В процессе 3–4 работа газа отрицательна.
- 4) Температура газа в состоянии 6 выше температуры газа в состоянии 2.
- 5) Изменение температуры газа в процессе 1–2 больше изменения температуры газа в процессе 5–6.

12.

В цилиндрическом сосуде под поршнем находится газ. Поршень может перемещаться в сосуде без трения. На дне сосуда лежит стальной шарик (см. рисунок). Из сосуда выпускается половина газа при неизменной температуре. Как изменится в результате этого объём газа, его давление и действующая на шарик архимедова сила?



Для каждой величины определите соответствующий характер изменения:

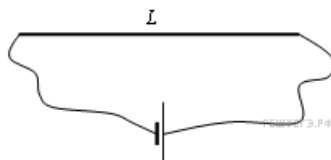
- 1) увеличится
- 2) уменьшится
- 3) не изменится

Запишите в таблицу выбранные цифры для каждой физической величины. Цифры в ответе могут повторяться.

Объём газа	Давление газа	Архимедова сила

13.

В электрическую цепь включена медная проволока длиной $L = 20$ см. При напряженности электрического поля 50 В/м сила тока в проводнике равна 2 А. Какое напряжение к концам проволоки? (Ответ дать в вольтах.)



14.

Школьник проводил эксперименты, соединяя друг с другом различными способами батарейку и пронумерованные лампочки. Сопротивление батарейки и соединительных проводов было пренебрежимо мало. Измерительные приборы, которые использовал школьник, можно считать идеальными. Сопротивление всех лампочек не зависит от напряжения, к которому они подключены. Ход своих экспериментов и полученные результаты школьник заносил в лабораторный журнал. Вот что написано в этом журнале.

Опыт А). Подсоединил к батарейке лампочку № 1. Сила тока через батарейку 2 А, напряжение на лампочке 8 В.

Опыт Б). Подключил лампочку № 2 последовательно с лампочкой № 1. Сила тока через лампочку №1 равна 1 А, напряжение на лампочке № 2 составляет 4 В.

Опыт В). Подсоединил параллельно с лампочкой № 2 лампочку № 3. Сила тока через лампочку № 1 примерно 1,14 А, напряжение на лампочке № 2 примерно 3,44 В.

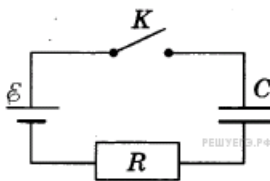
Исходя из записей в журнале определите сопротивление лампочки № 3. (Ответ дайте в омах с точностью до десятых.)

15.

Непрозрачный круг освещается точечным источником света и отбрасывает круглую тень на экран. Определите диаметр тени, если диаметр круга 0,1 м. Расстояние от источника света до круга в 3 раза меньше, чем расстояние от источника до экрана. (Ответ дать в метрах.)

16.

Конденсатор подключен к источнику тока последовательно с резистором $R = 20$ кОм (см. рисунок). В момент времени $t = 0$ ключ замыкают. В этот момент конденсатор полностью разряжен. Результаты измерений силы тока в цепи, выполненных с точностью ± 1 мкА, представлены в таблице



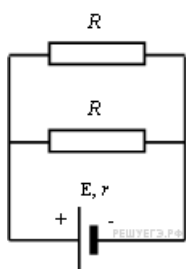
t, с	0	1	2	3	4	5	6
I, мкА	300	110	40	15	5	2	1

Выберите два верных утверждения о процессах, наблюдаемых в опыте.

- 1) Ток через резистор в процессе наблюдения уменьшается.
- 2) Через 2 с после замыкания ключа конденсатор остаётся полностью разряженным.
- 3) ЭДС источника тока составляет 12 В.
- 4) В момент времени $t = 3$ с напряжение на резисторе равно 0,3 В.
- 5) В момент времени $t = 3$ с напряжение на конденсаторе равно 6 В.

17.

К источнику тока присоединены два одинаковых резистора, соединенных параллельно.



Как изменятся общее сопротивление цепи, сила тока в цепи и напряжение на клеммах источника тока, если удалить один из резисторов?

Для каждой величины определите соответствующий характер изменения:

- 1) увеличится;
- 2) уменьшится;
- 3) не изменится.

Запишите в таблицу выбранные цифры для каждой физической величины. Цифры в ответе могут повторяться.

Общее сопротивление цепи	Сила тока в цепи	Напряжение на источнике тока

18.

Прямоугольная рамка из N витков одинаковой площадью S вращается с частотой ν вокруг одной из своих сторон в однородном магнитном поле с индукцией B . Линии индукции перпендикулярны оси вращения, сопротивление рамки равно R . Установите соответствие между физическими величинами и формулами, по которым их можно определить.

К каждой позиции первого столбца подберите соответствующую позицию второго и запишите в таблицу выбранные цифры.

ФИЗИЧЕСКИЕ ВЕЛИЧИНЫ

ФОРМУЛЫ

А) эффективное (действующее) значение ЭДС индукции в рамке

1)

$$\frac{2\pi^2 \nu^2 B^2 N^2 S^2}{R}$$

Б) среднее значение мощности, выделяющейся в рамке

2)

$$\sqrt{2}\pi \nu B N S$$
 3) $\nu B N S$
 4)

$$\frac{\nu^2 B^2 N^2 S^2}{2R}$$

Запишите в ответ цифры, расположив их в порядке, соответствующем буквам:

А	Б

19.

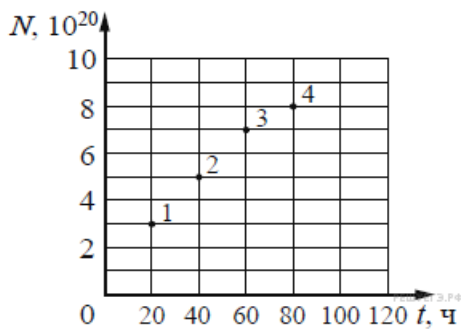
Сколько протонов и сколько нуклонов содержится в ядре йода ${}_{53}^{123}\text{I}$?

В ответе запишите значения слитно без пробела.

Число протонов	Число нуклонов

20.

Из ядер платины ${}^{197}_{78}\text{Pt}$ при β^- -распаде с периодом полураспада 20 часов образуются стабильные ядра золота. В момент начала наблюдения в образце содержится $8 \cdot 10^{20}$ ядер платины. Через какую из точек, кроме начала координат, пройдёт график зависимости числа ядер золота от времени (см. рисунок)?



21.

Интенсивность монохроматического светового пучка плавно уменьшают, не меняя частоту света. Как изменяются при этом концентрация фотонов в световом пучке и скорость каждого фотона? Для каждой величины определите соответствующий характер изменения:


- 1) увеличивается
- 2) уменьшается
- 3) не меняется

Запишите в таблицу выбранные цифры для каждой физической величины. Цифры в ответе могут повторяться.

Концентрация фотонов	Скорость фотона

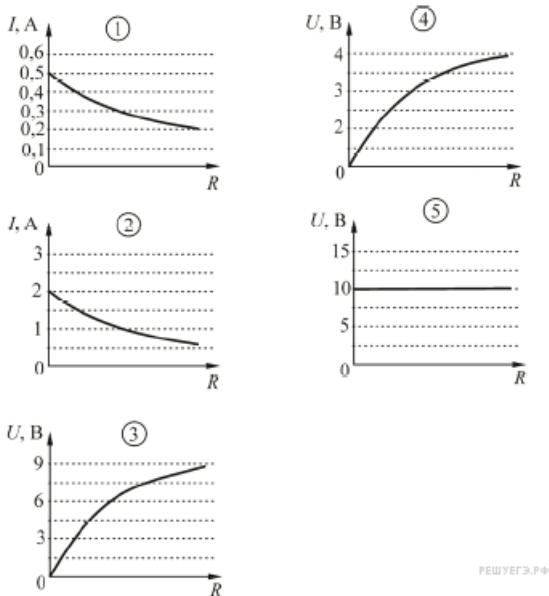
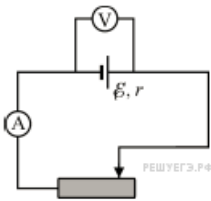
22.

Чему равна сила тока в лампочке (см. рисунок), если погрешность прямого измерения силы тока амперметром на пределе измерения 3 А равна $\Delta I_1 = 0,15$ А, а на пределе измерения 0,6 А равна $\Delta I_2 = 0,03$ А? В ответе значение силы тока (в А) и её погрешность запишите слитно, без пробелов.



23.

Для электрической цепи, состоящей из источника постоянного напряжения, амперметра, вольтметра и реостата с переменным сопротивлением получены зависимости силы тока I и напряжения U от сопротивления R реостата. ЭДС источника равна 10 В, его внутреннее сопротивление 5 Ом. Измерительные приборы настолько хорошие, что их можно считать идеальными. Определите, какие две зависимости правильно изображены на рисунке (масштабы по осям, вдоль которых отложены значения сопротивлений, могут быть разными). Запишите в таблицу выбранные номера установок.



24.

Рассмотрите таблицу, содержащую сведения о ярких звездах.

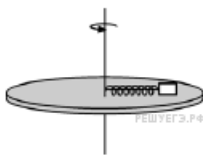
Наименование звезды	Температура, К	Масса (в массах Солнца)	Радиус (в радиусах Солнца)	Расстояние до звезды (св. год)
Альдебаран	3500	2,5	43	65
Альтаир	8000	1,7	1,7	17
Бетельгейзе	3600	15	1000	650
Вега	9600	2	3	25
Капелла	5000	3	12	42
Кастор	10400	2	2,5	50
Процион	6600	1,5	2	11
Спика	22000	11	8	260

Выберите **два** утверждения, которые соответствуют характеристикам звезд.

- 1) Звезда Спика относится к звездам спектрального класса F .
- 2) Плотность вещества звезды Вега составляет 1 г/см^3 .
- 3) Звезда Альтаир находятся дальше от Солнца, чем Процион.
- 4) Звезды Вега и Кастор имеют примерно одинаковую температуру и массу, следовательно, будет одинаковой и их видимая звездная величина.
- 5) Температура поверхности и радиус Альдебарана говорят о том, что эта звезда относится к гигантам.

25.

Невесомая пружина жёсткостью 100 Н/м прикреплена одним концом к оси вращения гладкого горизонтального диска радиусом 30 см . К другому концу этой пружины прикреплено небольшое тело массой $0,1 \text{ кг}$, лежащее на диске. Длина пружины в недеформированном состоянии равна 16 см . На каком расстоянии от оси вращения будет находиться тело, если медленно раскрутить диск до частоты обращения $\nu = 3 \text{ Гц}$? Ответ округлите до целого числа сантиметров.



26.

В однородное электрическое поле со скоростью $0,5 \cdot 10^7 \text{ м/с}$ влетает электрон и движется по направлению линий напряжённости поля. Какое расстояние пролетит электрон до полной потери скорости, если модуль напряжённости поля равен 3600 В/м ? Ответ приведите в см и округлите до целого.

27.

Поток фотонов падает на металлическую пластину с работой выхода $2,6 \text{ эВ}$ и выбивает из пластины фотоэлектроны, которые попадают в замедляющее однородное электрическое поле с модулем напряжённости 1 В/м . Какое время проходит от момента начала замедления фотоэлектронов до их полной остановки, если энергия падающего фотона $11,5 \text{ эВ}$? Считайте, что все фотоэлектроны при вылете из пластины имеют одинаковую скорость. Ответ дайте в мкс, округлив до целого.

28.

В опыте по изучению фотоэффекта катод освещается жёлтым светом, в результате чего в цепи возникает ток (рисунок 1). Зависимость показаний амперметра I от напряжения U между анодом и катодом приведена на рисунке 2. Используя законы фотоэффекта и предполагая, что отношение числа фотоэлектронов к числу поглощённых фотонов не зависит от частоты света, объясните, как изменится представленная зависимость $I(U)$, если освещать катод зелёным светом, оставив мощность поглощённого катодом света неизменной.

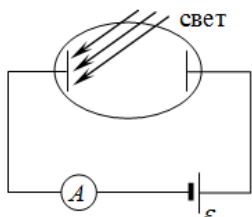


рис. 1

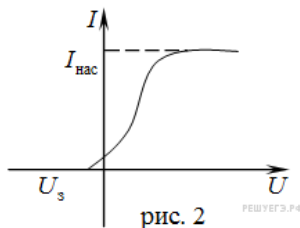
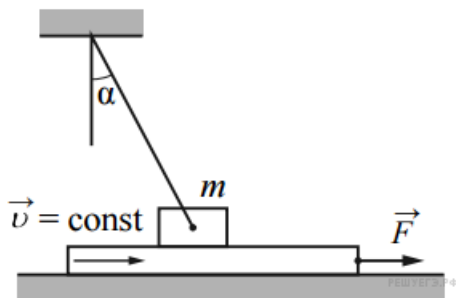


рис. 2

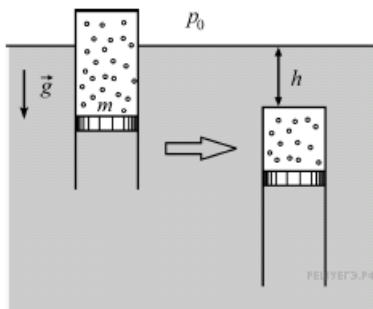
29.

Брусок массой $m = 1 \text{ кг}$, привязанный к потолку лёгкой нитью, опирается на массивную горизонтальную доску. Под действием горизонтальной силы \vec{F} доска движется поступательно вправо с постоянной скоростью (см. рисунок). Брусок при этом неподвижен, а нить образует с вертикалью угол $\alpha = 30^\circ$ (см. рисунок). Найдите F , если коэффициент трения бруска по доске $\mu = 0,2$. Трением доски по опоре пренебречь.



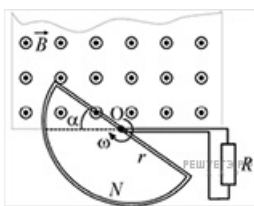
30.

Тонкостенный цилиндр с воздухом закрыт снизу поршнем массой $m = 1$ кг, который может без трения перемещаться в цилиндре. Цилиндр плавает в вертикальном положении в воде при температуре $T = 293$ К (см. рис.). Когда цилиндр опустили при постоянной температуре на глубину $h = 1$ м (от поверхности воды до его верхней крышки), он потерял плавучесть. Какое количество воздуха было в цилиндре? Атмосферное давление равно $p_0 = 10^5$ Па, масса цилиндра и воздуха в цилиндре гораздо меньше массы поршня.



31.

В зазоре между полюсами электромагнита вращается с угловой скоростью $\omega = 50$ с⁻¹ проволочная рамка в форме полуокружности радиусом $r = 4$ см, содержащая $N = 10$ витков провода. Ось вращения рамки проходит вдоль оси O рамки и находится вблизи края области с постоянным однородным магнитным полем с индукцией $B = 0,5$ Тл (см. рисунок), линии которого перпендикулярны плоскости рамки. Концы обмотки рамки замкнуты через скользящие контакты на резистор с сопротивлением $R = 10$ Ом. Пренебрегая сопротивлением рамки, найдите тепловую мощность, выделяющуюся в резисторе.



32.

Цепь, схема которой изображена на рисунке, состоит из источника постоянного напряжения с нулевым внутренним сопротивлением, идеального амперметра, резистора с постоянным сопротивлением R_3 и двух реостатов, сопротивления R_1 и R_2 которых можно изменять. Сопротивления реостатов меняют так, что сумма $R_1 + R_2$ все время остается неизменной ($R_1 + R_2 = \text{const}$). При этом сила тока I , текущего через идеальный амперметр A , изменяется. При каком отношении $\frac{R_2}{R_1}$ сила тока I будет минимальной?

