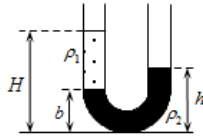


### Сила Архимеда, закон Паскаля

1.

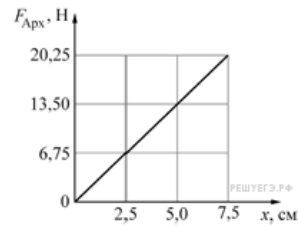
В широкую U-образную трубку с вертикальными прямыми коленами налита неизвестная жидкость плотностью  $\rho_1$ , и вода плотностью  $\rho_2 = 1,0 \cdot 10^3 \text{ кг/м}^3$  (см. рисунок). На рисунке  $b = 10 \text{ см}$ ,  $h = 24 \text{ см}$ ,  $H = 30 \text{ см}$ . Какова плотность жидкости  $\rho_1$ ? (Ответ дайте в  $\text{кг/м}^3$ .)



РЕШУ ЕГЭ.РФ

2.

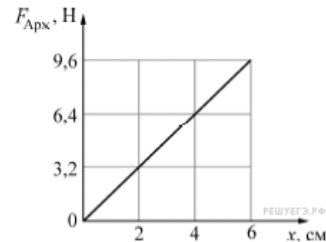
На графике показана зависимость модуля силы Архимеда  $F_{\text{Арх}}$ , действующей на медленно погружаемый в жидкость кубик, от глубины погружения  $x$ . Длина ребра кубика равна 10 см, его нижнее основание всё время параллельно поверхности жидкости. Определите плотность жидкости. Ответ приведите в  $\text{кг/м}^3$ . Ускорение свободного падения принять равным  $10 \text{ м/с}^2$ .



РЕШУ ЕГЭ.РФ

3.

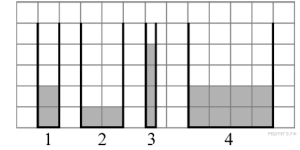
На графике показана зависимость модуля силы Архимеда  $F_{\text{Арх}}$ , действующей на медленно погружаемый в жидкость кубик, от глубины погружения  $x$ . Длина ребра кубика равна 8 см, его нижнее основание всё время параллельно поверхности жидкости. Определите плотность жидкости. Ответ приведите в  $\text{кг/м}^3$ . Ускорение свободного падения принять равным  $10 \text{ м/с}^2$ .



РЕШУ ЕГЭ.РФ

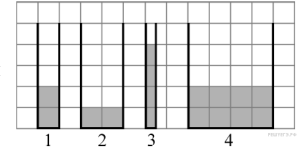
4.

В четыре сосуда, вертикальные сечения которых показаны на рисунке, налита вода. Одна клеточка на рисунке соответствует 10 см. В одном из этих сосудов гидростатическое давление на дно максимально. Чему оно равно? (Ответ дайте в паскалях.) Ускорение свободного падения принять равным  $10 \text{ м/с}^2$ .



5.

В четыре сосуда, вертикальные сечения которых показаны на рисунке, налита вода. Дно каждого сосуда является прямоугольным, длина дна у всех сосудов одинакова и равна 50 см, а ширина разная (см. рисунок). Одна клеточка на рисунке соответствует 10 см. В одном из этих сосудов сила гидростатического давления на дно максимальна. Чему она равна? (Ответ дайте в ньютонах.) Ускорение свободного падения принять равным  $10 \text{ м/с}^2$ .



6.

Кубик из пробки с ребром 10 см опускают в воду. Каково отношение объёма кубика, находящегося над водой, к объёму кубика, находящегося под водой? Плотность пробки  $0,25 \text{ г/см}^3$ .

7.

Кубик из резины с ребром 10 см опускают в воду. Каково отношение объёма кубика, находящегося под водой, к объёму кубика, находящегося над водой? Плотность резины  $0,8 \text{ г/см}^3$ .

8.

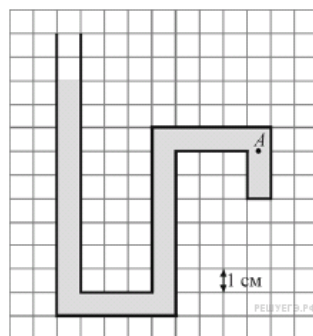
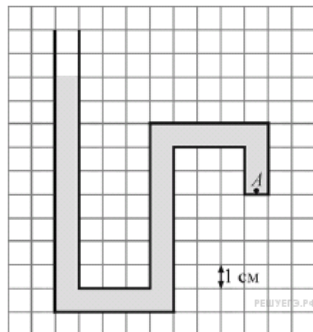
Пустой цилиндрический стеклянный стакан плавает в воде, погружившись на половину своей высоты. Дно стакана при плавании горизонтально, плотность стекла  $2500 \text{ кг/м}^3$ . Чему равно отношение внутреннего объёма стакана к его наружному объёму? Ответ представьте в виде десятичной дроби, округлив до десятых долей.

9.

Пустой цилиндрический стеклянный стакан плавает в воде, погружившись на  $3/4$  своей высоты. Дно стакана при плавании горизонтально, плотность стекла  $2500 \text{ кг/м}^3$ . Чему равно отношение внутреннего объёма стакана к его наружному объёму? Ответ представьте в виде десятичной дроби, округлив до десятых долей.

10.

Один конец изогнутой трубки запаян, а второй открыт. Эта трубка заполнена водой и расположена вертикально открытым концом вверх, как показано на рисунке. Чему равно давление, создаваемое водой в точке А внутри трубки? (Ответ дайте в паскалях.) Ускорение свободного падения принять равным  $10 \text{ м/с}^2$ .



11.

Один конец изогнутой трубки запаян, а второй открыт. Эта трубка заполнена водой и расположена вертикально открытым концом вверх, как показано на рисунке. Чему равно давление, создаваемое водой в точке А внутри трубки? (Ответ дайте в паскалях.) Ускорение свободного падения принять равным  $10 \text{ м/с}^2$ .

12.

В сосуд высотой 20 см налита вода, уровень которой ниже края сосуда на 2 см. Чему равна сила давления воды на дно сосуда, если площадь дна  $0,01 \text{ м}^2$ ? (Ответ дайте в ньютонах.) Атмосферное давление не учитывать. Ускорение свободного падения принять равным  $10 \text{ м/с}^2$ .

13.

В сосуде с водой, не касаясь стенок и дна, плавает деревянный (сосновый) кубик с длиной ребра 20 см. Кубик вынимают из воды, заменяют половину его объёма на материал, плотность которого в 6 раз больше плотности древесины, и помещают получившийся составной кубик обратно в сосуд с водой. На сколько увеличится модуль силы Архимеда, действующей на кубик? Ответ выразите в Н. (Плотность сосны —  $400 \text{ кг/м}^3$ .)

14.

В сосуде с водой, не касаясь стенок и дна, плавает деревянный (сосновый) кубик с длиной ребра 10 см. Кубик вынимают из воды, заменяют половину его объёма на материал, плотность которого в 5 раз больше плотности древесины, и помещают получившийся составной кубик обратно в сосуд с водой. На сколько увеличится модуль силы Архимеда, действующей на кубик? Ответ выразите в Н. (Плотность сосны —  $400 \text{ кг/м}^3$ .)

15.

При нормальном атмосферном давлении находится открытый сосуд с керосином. Определите давление в сосуде на глубине 2 метра. Ответ выразите в килопаскалях (кПа). (Плотность керосина —  $900 \text{ кг/м}^3$ , нормальное атмосферное давление примите равным  $10^5 \text{ Па}$ .)

16.

Какова глубина озера, если максимальное гидростатическое давление, оказываемое на дно при нормальном атмосферном давлении составляет  $4 \cdot 10^5 \text{ Па}$ ? Ответ дайте в метрах. (Нормальное атмосферное давление примите равным  $10^5 \text{ Па}$ .)

17.

Гидравлический пресс изготовлен с использованием двух вертикальных цилиндрических сообщающихся сосудов, заполненных жидкостью и закрытых лёгкими поршнями. Радиус большего поршня этого пресса превосходит радиус меньшего поршня в 5 раз. На малый поршень положили груз массой 20 кг, удерживая больший поршень неподвижным. Определите модуль силы давления жидкости на больший поршень.

18.

Гидравлический пресс изготовлен с использованием двух вертикальных цилиндрических сообщающихся сосудов, заполненных жидкостью и закрытых лёгкими поршнями. Если на малый поршень этого пресса положить груз массой 40 кг, удерживая больший поршень неподвижным, то сила давления жидкости на больший поршень будет равна по модулю 900 Н. Во сколько раз радиус большего поршня пресса превосходит радиус меньшего поршня?

19.

Тело массой 600 г плавает в очень глубоком сосуде на поверхности жидкости, погрузившись в неё на  $3/4$  своего объёма. К телу прикладывают направленную вертикально вниз силу, модуль которой равен 3 Н. Чему через достаточно большое время после этого станет равен модуль силы Архимеда, действующей на тело?

20.

Тело массой 800 г плавает в очень глубоком сосуде на поверхности жидкости, погрузившись в неё на  $2/3$  своего объёма. К телу прикладывают направленную вертикально вниз силу, модуль которой равен 5 Н. Чему через достаточно большое время после этого станет равен модуль силы Архимеда, действующей на тело?

21.

На плавающем в воде теле объёмом  $500 \text{ см}^3$  стоит кубик массой 100 г. При этом тело погружено в воду целиком, а кубик весь находится над водой. Чему станет равным объём погружённой в воду части тела, если снять с него кубик? В обоих случаях плавание тела является установившимся. Ответ выразите в кубических сантиметрах и округлите до целого числа.

22.

На плавающем в воде теле объёмом  $800 \text{ см}^3$  стоит кубик массой  $300 \text{ г}$ . При этом тело погружено в воду целиком, а кубик весь находится над водой. Чему станет равным объём погружённой в воду части тела, если снять с него кубик? В обоих случаях плавание тела является установившимся. Ответ выразите в кубических сантиметрах и округлите до целого числа.

23.

В сосуд налито  $4 \text{ л}$  жидкости плотностью  $1300 \text{ кг/м}^3$ . В этой жидкости в равновесии плавает тело, объём погружённой части которого равен  $240 \text{ см}^3$ . В сосуд доливают ещё  $4 \text{ л}$  жидкости плотностью  $1100 \text{ кг/м}^3$  и перемешивают их. Чему после этого будет равен объём погружённой части тела в  $\text{см}^3$  при плавании в равновесии, если известно, что тело продолжает плавать? В обоих случаях плавающее тело не касается стенок и дна сосуда. Обе жидкости хорошо смешиваются, и при смешивании их суммарный объём сохраняется.

24.

В сосуд налито  $3 \text{ л}$  воды. В этой воде в равновесии плавает тело, объём погружённой части которого равен  $110 \text{ см}^3$ . В сосуд доливают ещё  $3 \text{ л}$  жидкости плотностью  $1200 \text{ кг/м}^3$  и перемешивают их. Чему после этого будет равен объём погружённой части тела (в  $\text{см}^3$ ) при плавании в равновесии? В обоих случаях плавающее тело не касается стенок и дна сосуда. Обе жидкости хорошо смешиваются, и при смешивании их суммарный объём сохраняется.