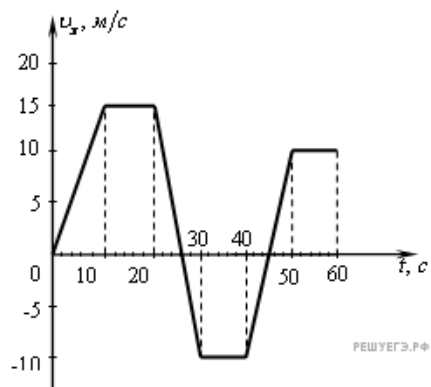
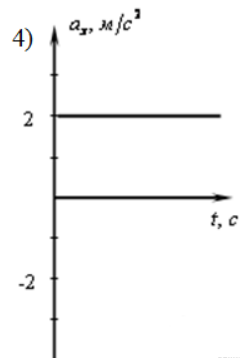
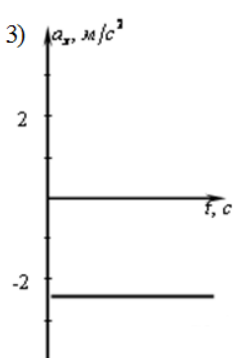
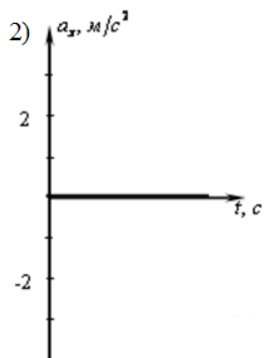
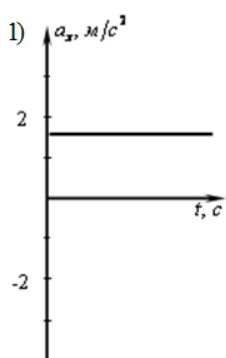


На рисунке приведен график зависимости проекции скорости тела от времени.



На каком из графиков представлена проекция ускорения тела в интервале времени от 24 до 30 с?



РЕШУ ЕГЭ.РФ

- 1) 1
- 2) 2
- 3) 3
- 4) 4