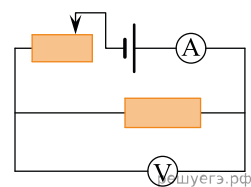
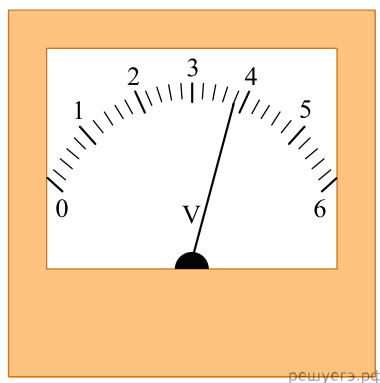
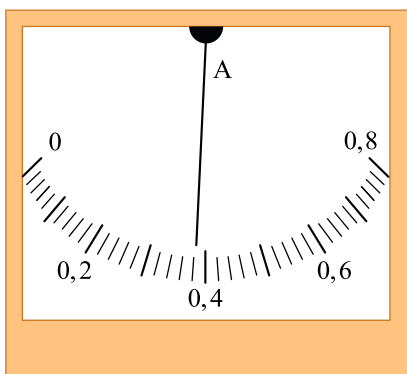


Для исследования зависимости силы тока, протекающего через проволочный резистор, от напряжения на нем была собрана электрическая цепь, представленная на рисунке.



На какую величину необходимо увеличить напряжение для увеличения силы тока на 0,22 А? (Ответ дайте в вольтах.) Приборы считайте идеальными.