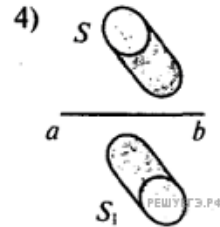
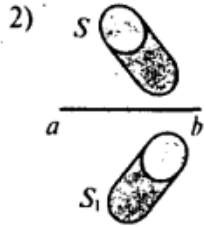
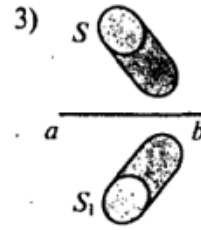
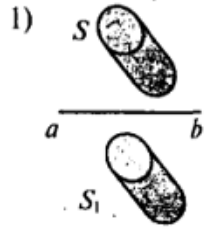


Источник света неправильной формы  $S$  отражается в плоском зеркале  $ab$ . На каком рисунке верно показано изображение  $S_1$  этого источника в зеркале?



- 1) 1
- 2) 2
- 3) 3
- 4) 4