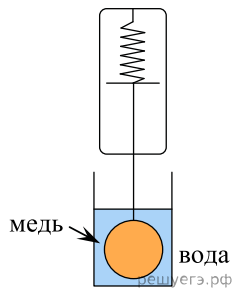
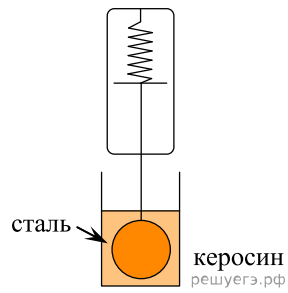


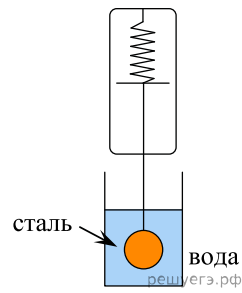
Необходимо экспериментально проверить, зависит ли сила Архимеда, действующая на тело, полностью погруженное в жидкость, от его объема. Какие две установки следует использовать для проведения такого исследования? В ответе запишите номера выбранных установок.



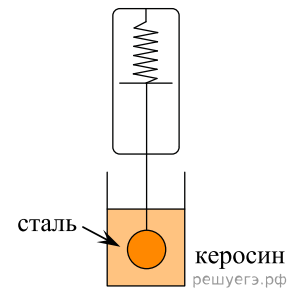
Опыт 1



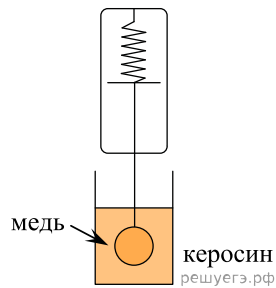
Опыт 2



Опыт 3



Опыт 4



Опыт 5