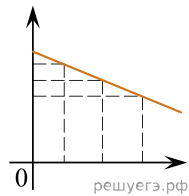


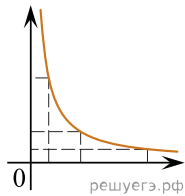
Даны следующие зависимости величин:

- А) зависимость модуля ускорения тела от времени при равноускоренном движении;
- Б) зависимость средней кинетической энергии молекул от абсолютной температуры;
- В) зависимость давления постоянной массы идеального газа от объема при изотермическом процессе.

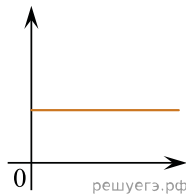
Установите соответствие между этими зависимостями и видами графиков, обозначенных цифрами 1–5. Для каждой зависимости А–В подберите соответствующий вид графика и запишите в таблицу выбранные цифры под соответствующими буквами.



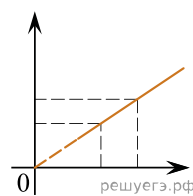
(1)



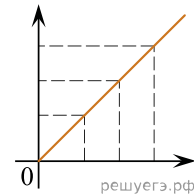
(2)



(3)



(4)



(5)

Ответ:

А	Б	В