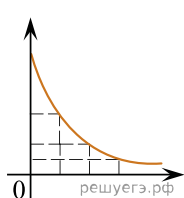


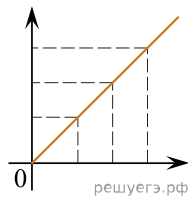
Даны следующие зависимости величин:

- А) зависимость модуля перемещения тела от времени при прямолинейном равномерном движении;  
 Б) зависимость температуры твердого тела от времени при охлаждении при постоянной мощности теплоотвода;  
 В) зависимость числа оставшихся ядер от времени при радиоактивном распаде.

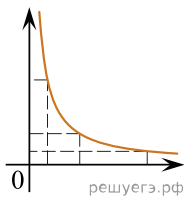
Установите соответствие между этими зависимостями и видами графиков, обозначенных цифрами 1–5. Для каждой зависимости А–В подберите соответствующий вид графика и запишите в таблицу выбранные цифры под соответствующими буквами.



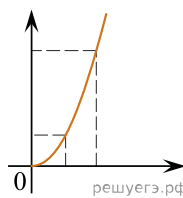
(1)



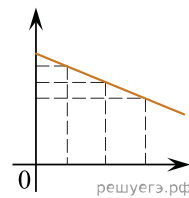
(2)



(3)



(4)



(5)

Ответ:

А	Б	В