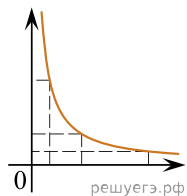


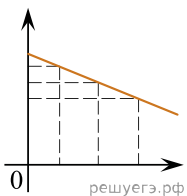
Даны следующие зависимости величин:

- А) Зависимость потенциальной энергии упруго деформированного тела от деформации;
- Б) Зависимость силы Архимеда от объема тела;
- В) Зависимость импульса фотона от длины световой волны.

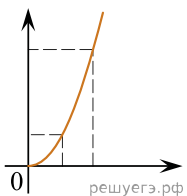
Установите соответствие между этими зависимостями и видами графиков, обозначенных цифрами 1–5. Для каждой зависимости А–В подберите соответствующий вид графика и запишите в таблицу выбранные цифры под соответствующими буквами.



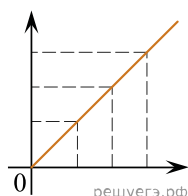
(1)



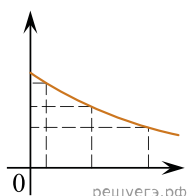
(2)



(3)



(4)



(5)

Ответ:

А	Б	В