

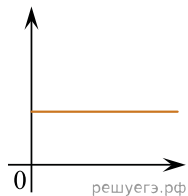
Даны следующие зависимости величин:

А) Зависимость координаты при гармонических колебаниях тела, подвешенного на нерастяжимой невесомой нити, от времени, при условии, что в момент времени $t = 0$ тело находилось в крайней правой точке;

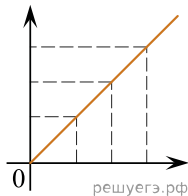
Б) Зависимость силы тока на участке цепи от напряжения на этом участке;

В) Зависимость температуры тела, взятого при температуре плавления, от времени прохождения процесса плавления.

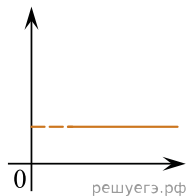
Установите соответствие между этими зависимостями и видами графиков, обозначенных цифрами 1–5. Для каждой зависимости А–В подберите соответствующий вид графика и запишите в таблицу выбранные цифры под соответствующими буквами.



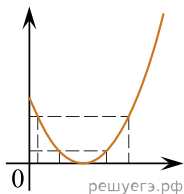
(1)



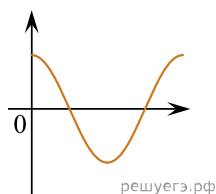
(2)



(3)



(4)



(5)

Ответ:

А	Б	В