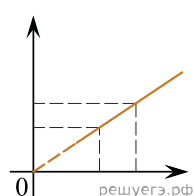


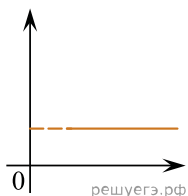
Даны следующие зависимости величин:

- А) Зависимость проекции скорости математического маятника, совершающего гармонические колебания, от времени, учитывая, что в начальный момент времени тело находилось в крайней левой точке;
 Б) Зависимость объема идеального газа от температуры при изобарном процессе;
 В) Зависимость сопротивления проводника от его длины.

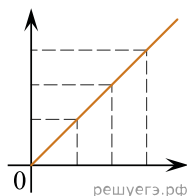
Установите соответствие между этими зависимостями и видами графиков, обозначенных цифрами 1–5. Для каждой зависимости А–В подберите соответствующий вид графика и запишите в таблицу выбранные цифры под соответствующими буквами.



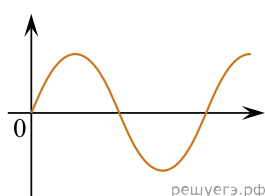
(1)



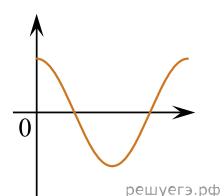
(2)



(3)



(4)



(5)

Ответ:

А	Б	В