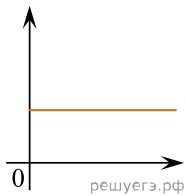


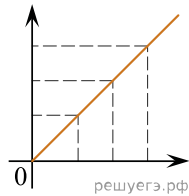
Даны следующие зависимости величин:

- А) Зависимость проекции скорости тела, брошенного вертикально вверх, от времени в течение небольшого промежутка времени;
 Б) Зависимость емкости плоского конденсатора от площади пластин;
 В) Зависимость оптической силы линзы от ее фокусного расстояния.

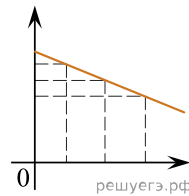
Установите соответствие между этими зависимостями и видами графиков, обозначенных цифрами 1–5. Для каждой зависимости А–В подберите соответствующий вид графика и запишите в таблицу выбранные цифры под соответствующими буквами.



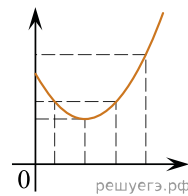
(1)



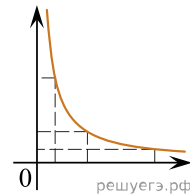
(2)



(3)



(4)



(5)

Ответ:

А	Б	В