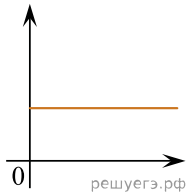


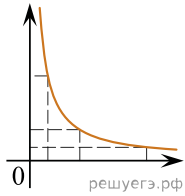
Даны следующие зависимости величин:

- А) Зависимость ускорения свободного падения от квадрата расстояния от центра планеты;
- Б) Зависимость силы тока в рамке, вращающейся с постоянной скоростью между полюсами постоянного магнита, от времени;
- В) Зависимость давления идеального газа от объема при изохорном процессе.

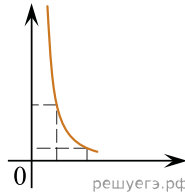
Установите соответствие между этими зависимостями и видами графиков, обозначенных цифрами 1–5. Для каждой зависимости А–В подберите соответствующий вид графика и запишите в таблицу выбранные цифры под соответствующими буквами.



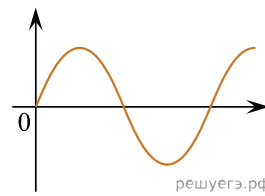
(1)



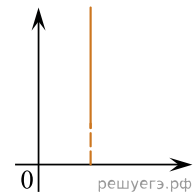
(2)



(3)



(4)



(5)

Ответ:

А	Б	В