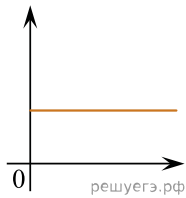


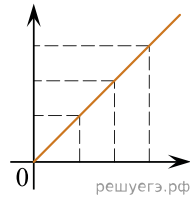
Даны следующие зависимости величин:

- А) Зависимость силы упругости, возникающей в упруго деформированных телах, от деформации тела;
- Б) Зависимость периода гармонических колебаний в математическом маятнике от длины нити;
- В) Зависимость ЭДС индукции, возникающей в рамке, вращающейся с постоянной угловой скоростью в постоянном магнитном поле, от времени.

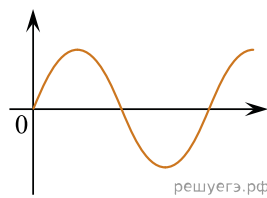
Установите соответствие между этими зависимостями и видами графиков, обозначенных цифрами 1–5. Для каждой зависимости А–В подберите соответствующий вид графика и запишите в таблицу выбранные цифры под соответствующими буквами.



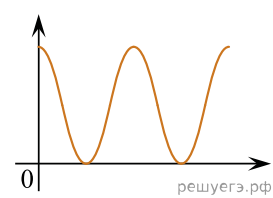
(1)



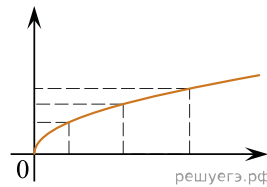
(2)



(3)



(4)



(5)

Ответ:

А	Б	В