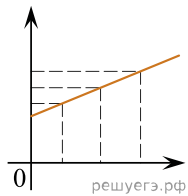


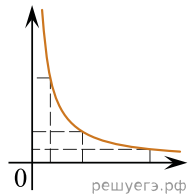
Даны следующие зависимости величин:

- А) Зависимость координаты тела от времени при прямолинейном равноускоренном движении;
- Б) Зависимость гидростатического давления жидкости от высоты столба жидкости;
- В) Зависимость периода гармонических колебаний в колебательном контуре от емкости конденсатора.

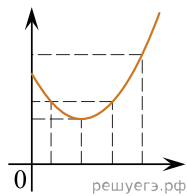
Установите соответствие между этими зависимостями и видами графиков, обозначенных цифрами 1–5. Для каждой зависимости А–В подберите соответствующий вид графика и запишите в таблицу выбранные цифры под соответствующими буквами.



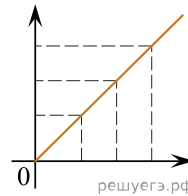
(1)



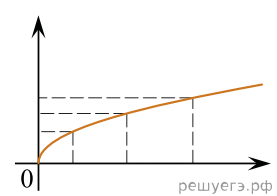
(2)



(3)



(4)



(5)

Ответ:

А	Б	В