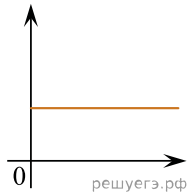


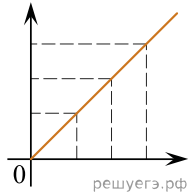
Даны следующие зависимости величин:

- А) Зависимость периода колебаний маятника от частоты колебаний;
- Б) Зависимость температуры тела, взятого при температуре плавления, от времени во время процесса кристаллизации;
- В) Зависимость заряда от времени при гармонических колебаниях в колебательном контуре.

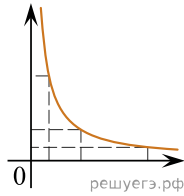
Установите соответствие между этими зависимостями и видами графиков, обозначенных цифрами 1–5. Для каждой зависимости А–В подберите соответствующий вид графика и запишите в таблицу выбранные цифры под соответствующими буквами.



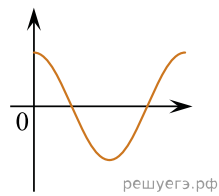
(1)



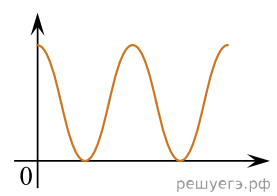
(2)



(3)



(4)



(5)

Ответ:

А	Б	В