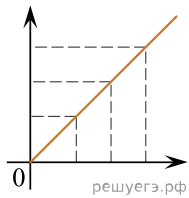


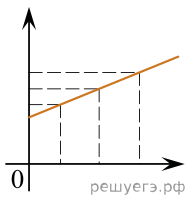
Даны следующие зависимости величин:

- А) Зависимость угловой скорости от частоты обращения при равномерном движении по окружности;
 Б) Зависимость периода гармонических колебаний в пружинном маятнике от массы подвешенного груза;
 В) Зависимость числа нераспавшихся ядер от времени при радиоактивном распаде.

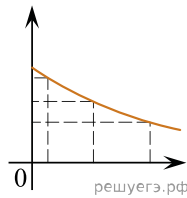
Установите соответствие между этими зависимостями и видами графиков, обозначенных цифрами 1–5. Для каждой зависимости А–В подберите соответствующий вид графика и запишите в таблицу выбранные цифры под соответствующими буквами.



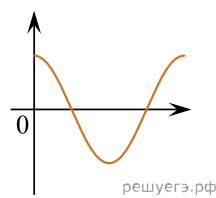
(1)



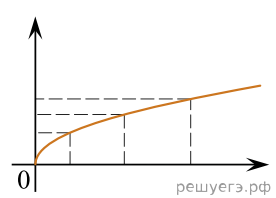
(2)



(3)



(4)



(5)

Ответ:

А	Б	В