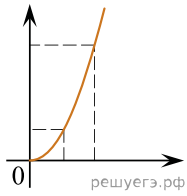


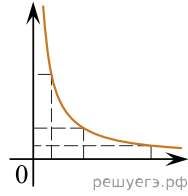
Даны следующие зависимости величин:

- А) зависимость модуля импульса равномерно движущегося тела от времени;
- Б) зависимость давления идеального газа от его объема при изотермическом процессе;
- В) зависимость энергии фотона от его частоты.

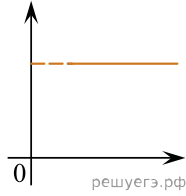
Установите соответствие между этими зависимостями и видами графиков, обозначенных цифрами 1–5. Для каждой зависимости А–В подберите соответствующий вид графика и запишите в таблицу выбранные цифры под соответствующими буквами.



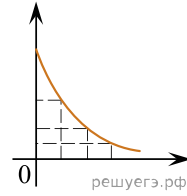
(1)



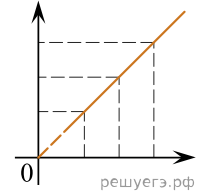
(2)



(3)



(4)



(5)

Ответ:

А	Б	В