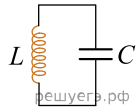
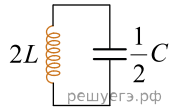


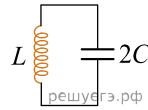
Ученик хочет изучить зависимость периода электромагнитных колебаний в контуре от индуктивности катушки. Какие два контура он должен выбрать для этого исследования?



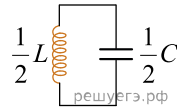
1)



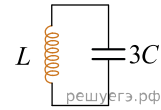
2)



3)



4)



5)

В ответе запишите номера выбранных контуров.