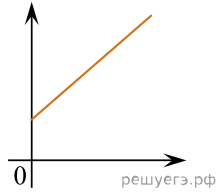


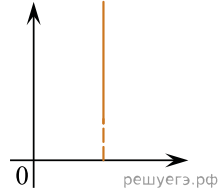
Даны следующие зависимости величин:

- А) зависимость скорости тела от времени при равноускоренном движении;
- Б) зависимость объема от температуры при изотермическом процессе;
- В) зависимость сопротивления резистора от его площади поперечного сечения.

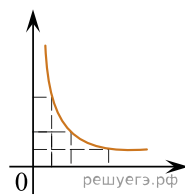
Установите соответствие между этими зависимостями и видами графиков, обозначенных цифрами 1–5. Для каждой зависимости А-В подберите соответствующий вид графика и запишите в таблицу выбранные цифры под соответствующими буквами. Цифры в ответе могут повторяться.



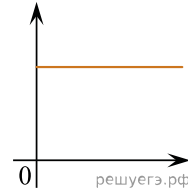
(1)



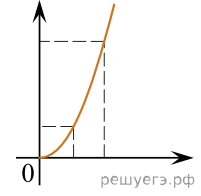
(2)



(3)



(4)



(5)

Ответ:

А	Б	В