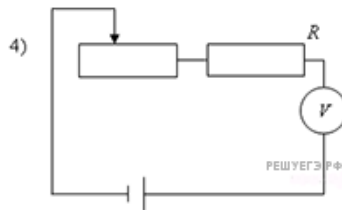
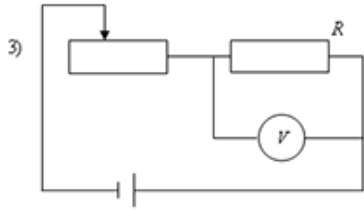
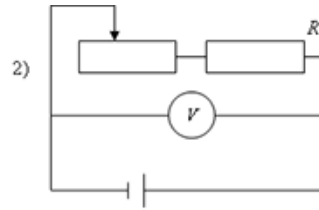
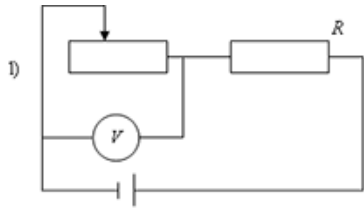


Во время лабораторной работы необходимо было измерить напряжение на реостате. Это можно сделать с помощью схемы



- 1) 1
- 2) 2
- 3) 3
- 4) 4