

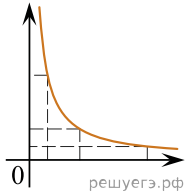
Даны следующие зависимости величин:

А) зависимость силы упругости, возникающей в пружине при растяжении, от ее удлинения;

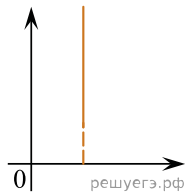
Б) зависимость энергии электрического поля конденсатора электроемкостью  $C$  от напряжения на конденсаторе;

В) зависимость энергии фотона от длины волны.

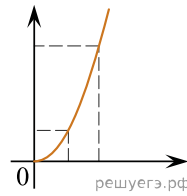
Установите соответствие между этими зависимостями и видами графиков, обозначенных цифрами 1–5. Для каждой зависимости А–В подберите соответствующий вид графика и запишите в таблицу выбранные цифры под соответствующими буквами. Цифры в ответе могут повторяться.



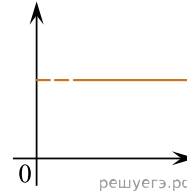
(1)



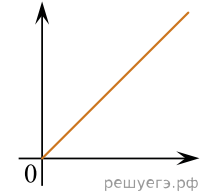
(2)



(3)



(4)



(5)

Ответ:

А	Б	В