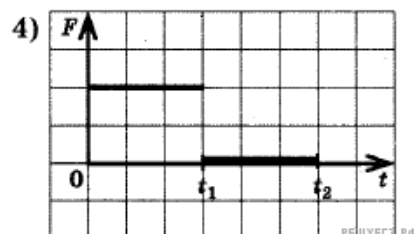
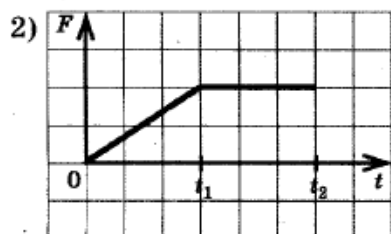
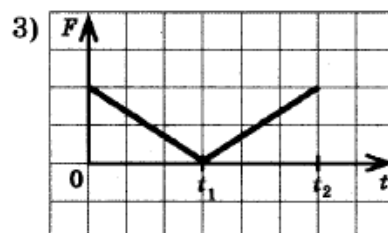
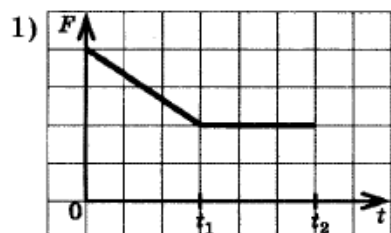
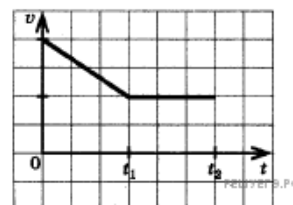


На рисунке изображен график зависимости скорости движения трамвая от времени в инерциальной системе отсчета. Какой из приведенных графиков — 1, 2, 3 или 4 — выражает зависимость модуля равнодействующей силы от времени движения?



- 1) 1
- 2) 2
- 3) 3
- 4) 4