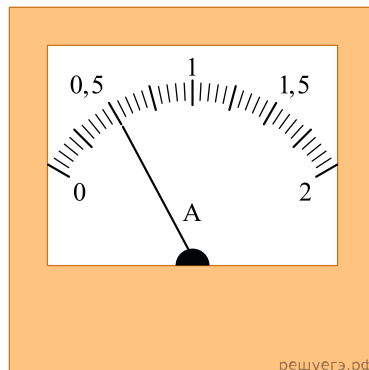
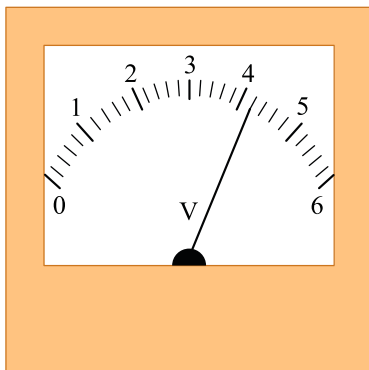
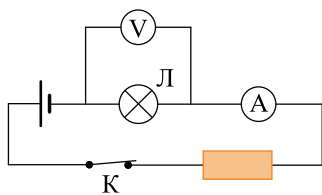


На рисунке приведена электрическая цепь. Чему равна работа электрического тока за 5 мин. протекания тока на участке цепи, к которому подключен вольтметр? (Ответ дайте в джоулях.)



решуегэ.рф