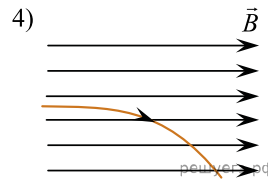
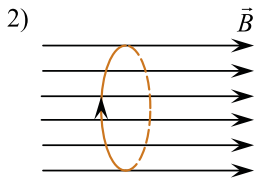
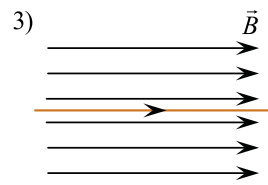
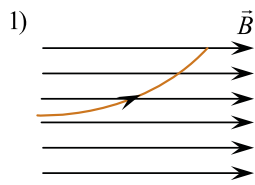
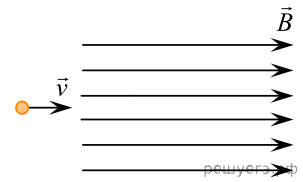


Альфа-частица влетает в однородное магнитное поле со скоростью  $U$ . Укажите правильную траекторию альфа-частицы в магнитном поле. Силой тяжести пренебречь.



- 1) 1
- 2) 2
- 3) 3
- 4) 4