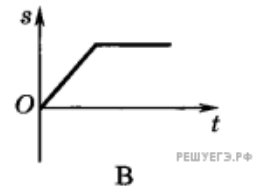
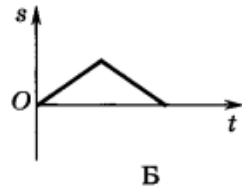
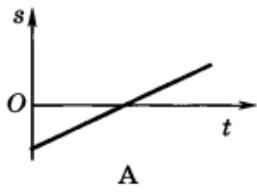


На каком из графиков изображена возможная зависимость пройденного пути от времени?



1. А
2. Б
3. В
4. Такой график отсутствует