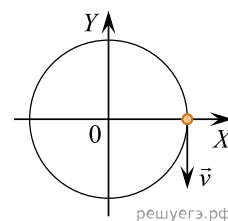
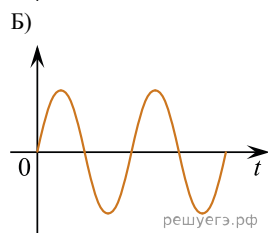
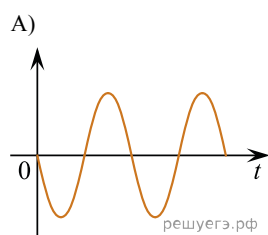


Материальная точка равномерно движется по окружности. В момент времени $t = 0$ точка была расположена и двигалась так, как показано на рисунке. Установите соответствие между графиками и физическими величинами, зависимость которых от времени эти графики могут представлять. К каждой позиции первого столбца подберите соответствующую позицию второго и запишите в таблицу выбранные цифры под соответствующими буквами.



ГРАФИКИ



ФИЗИЧЕСКИЕ ВЕЛИЧИНЫ

1. Проекция скорости на ось OX
2. Проекция скорости на ось OY
3. Проекция ускорения на ось OX
4. Проекция ускорения на ось OY

А	Б