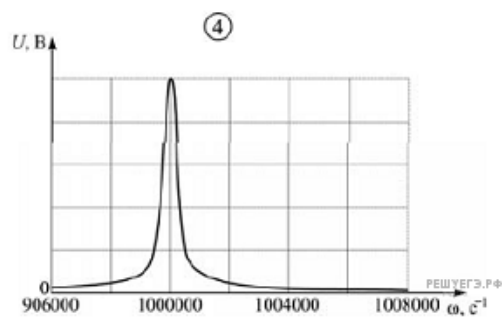
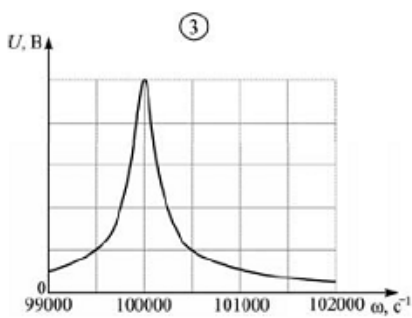
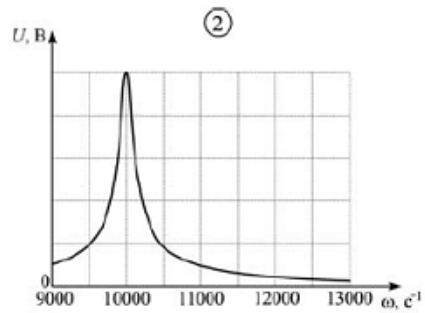
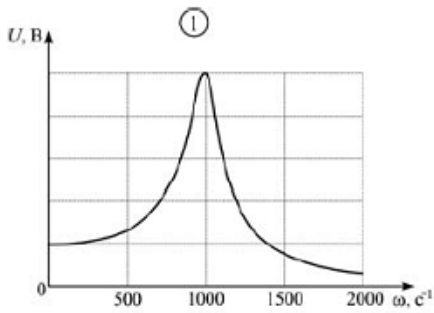


Колебательный контур состоит из последовательно соединенных резистора с малым активным сопротивлением, конденсатора емкостью $0,1 \text{ мкФ}$ и катушки индуктивностью 1 мГн . Какая из приведенных на рисунке резонансных кривых может принадлежать этому контуру?



- 1) 1
- 2) 2
- 3) 3
- 4) 4