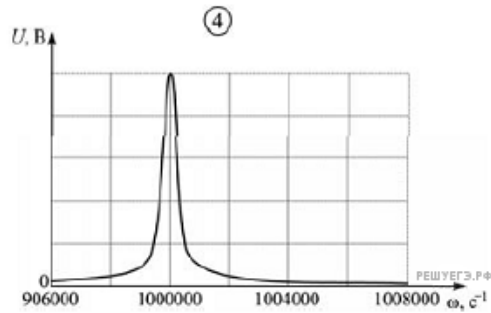
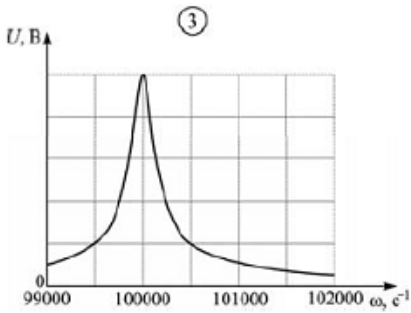
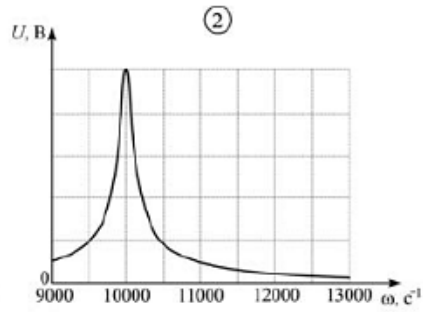
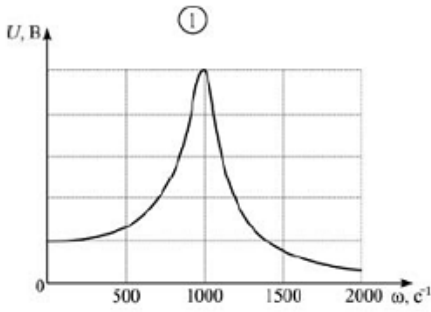


Колебательный контур состоит из последовательно соединенных резистора, конденсатора емкостью 10 мкФ и катушки индуктивностью 1 мГн. Какая из приведенных на рисунке резонансных кривых может принадлежать этому контуру?



- 1) 1
- 2) 2
- 3) 3
- 4) 4