
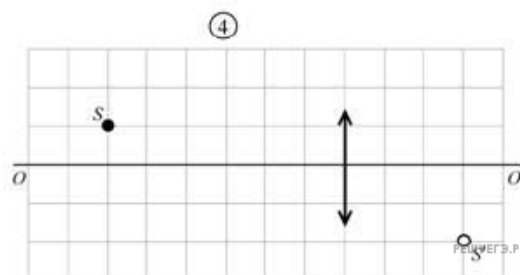
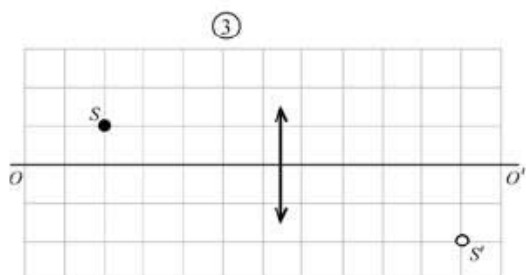
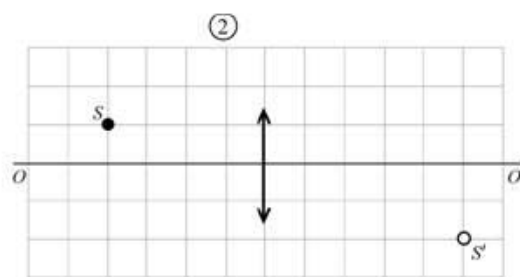
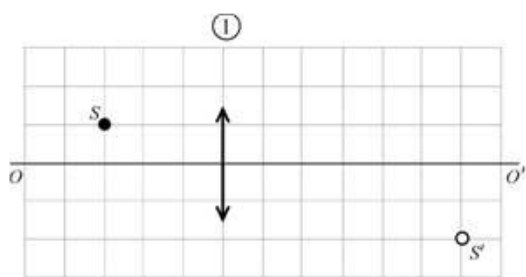


На рисунке изображен предмет  $S$  и его изображение  $S'$ , полученное с помощью тонкой собирающей линзы. Прямая  $OO'$  — главная оптическая ось системы.



На каком из приведенных ниже рисунков правильно показано положение линзы?



- 1) 1
- 2) 2
- 3) 3
- 4) 4