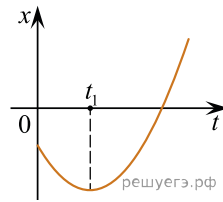
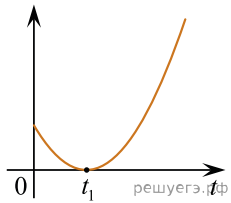


На рисунке показан график зависимости координаты x тела, движущегося вдоль оси Ox , от времени t (парабола). Графики A и B представляют собой зависимости физических величин, характеризующих движение этого тела, от времени t . Установите соответствие между графиками и физическими величинами, зависимости которых от времени эти графики могут представлять. К каждой позиции первого столбца подберите соответствующую позицию из второго столбца и запишите в таблицу выбранные цифры под соответствующими буквами.

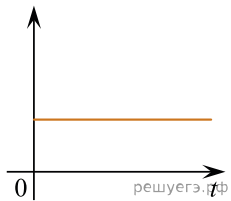


ГРАФИКИ

А)



Б)



ФИЗИЧЕСКИЕ ВЕЛИЧИНЫ

- 1) модуль импульса тела
- 2) кинетическая энергия тела
- 3) модуль равнодействующей силы
- 4) проекция скорости тела на ось Ox

К каждой позиции первого столбца подберите соответствующую позицию из второго столбца и запишите в таблицу выбранные цифры.

А	Б