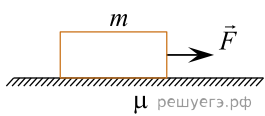
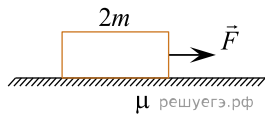


Необходимо экспериментально изучить зависимость ускорения тела, скользящего по шероховатой горизонтальной плоскости, от массы тела. Какие две установки из изображённых ниже следует выбрать, чтобы провести такое исследование? В ответ запишите номера выбранных установок.

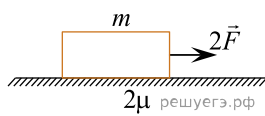
1)



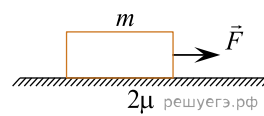
2)



3)



4)



5)

