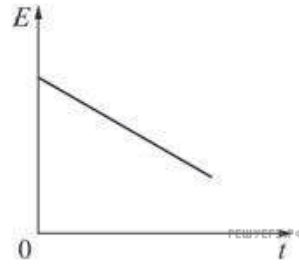
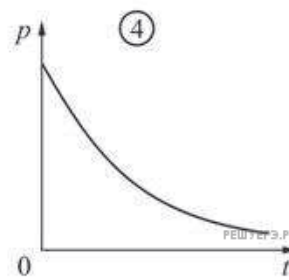
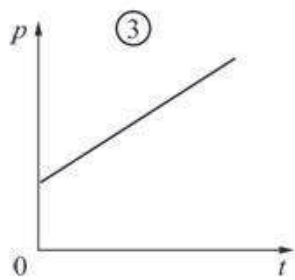
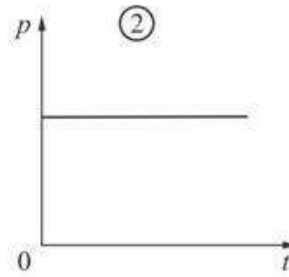
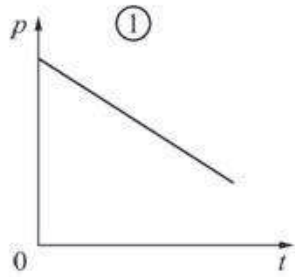


Идеальный газ находится в сосуде постоянного объема. На рисунке приведен график зависимости средней кинетической энергии E хаотического движения молекул газа от времени t .



На каком из рисунков правильно показана зависимость давления p газа от времени?



- 1) 1
- 2) 2
- 3) 3
- 4) 4