





Шары одинаковой массы движутся так, как показано на рисунке, и испытывают абсолютно неупругое соударение.

Как будет направлен импульс шаров после соударения?

- 1)  РЕШУ ЕГЭ. РФ
- 2) 
- 3) 
- 4)  РЕШУ ЕГЭ. РФ

