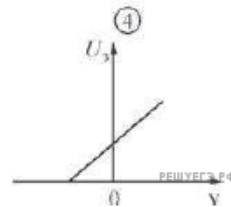
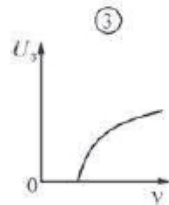
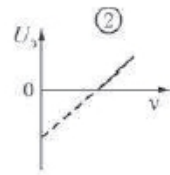
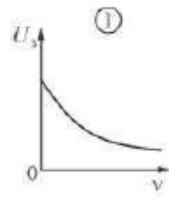


При экспериментальном изучении фотоэффекта получена зависимость запирающего напряжения  $U_3$  от частоты  $\nu$  света, падающего на металлическую пластинку. На каком рисунке правильно изображена эта зависимость?



- 1) 1
- 2) 2
- 3) 3
- 4) 4