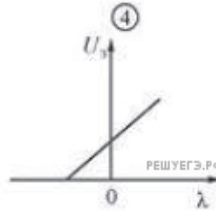
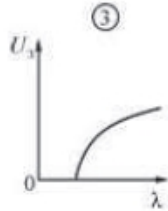
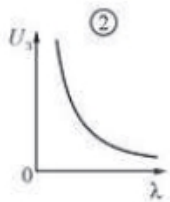
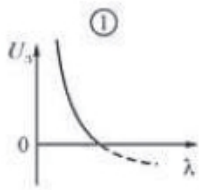


При экспериментальном изучении фотоэффекта получена зависимость запирающего напряжения U_3 от волны λ света, падающего на металлическую пластинку.

На каком рисунке правильно изображена эта зависимость?



- 1) 1
- 2) 2
- 3) 3
- 4) 4