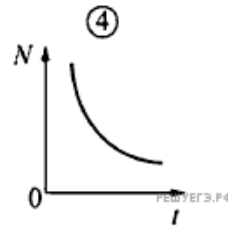
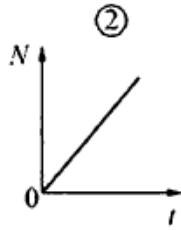
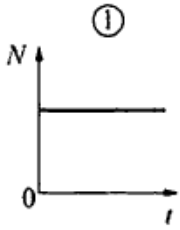
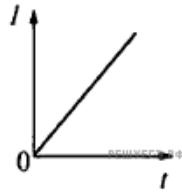


На рисунке изображен график зависимости силы тока  $I$ , протекающего через резистор, от времени  $t$ . На каком из следующих графиков правильно показана зависимость мощности  $N$ , выделяющейся в этом резисторе, от времени?



- 1) 1
- 2) 2
- 3) 3
- 4) 4