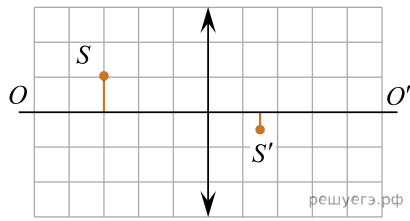
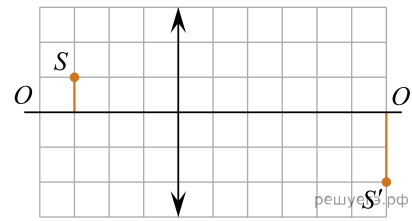


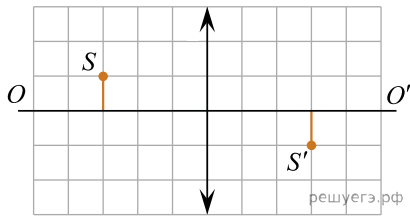
На рисунках представлены предмет  $S$  и его изображение  $S'$ , полученное с помощью четырех различных собирающих тонких линз. Чему равна наибольшая оптическая сила среди этих линз? Одна клетка на графике соответствует 10 см.



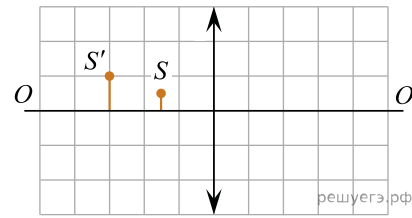
линза №1



линза №2



линза №3



линза №4