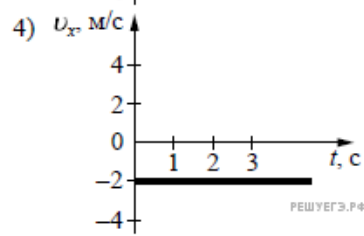
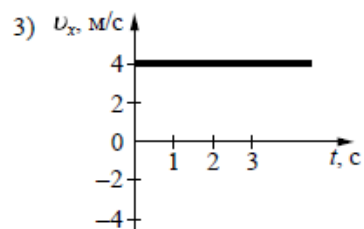
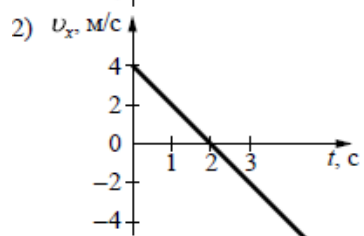
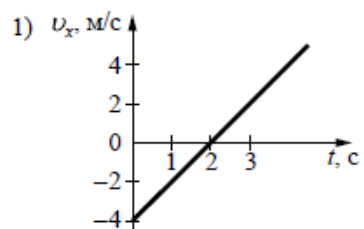


Координата тела меняется с течением времени согласно закону  $x = 4 - 2t$ , где все величины выражены в СИ. Какой из графиков отражает зависимость проекции скорости движения тела от времени?



- 1) 1
- 2) 2
- 3) 3
- 4) 4