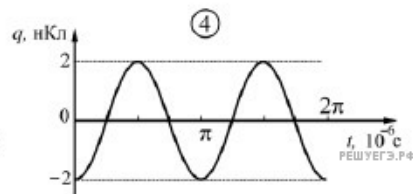
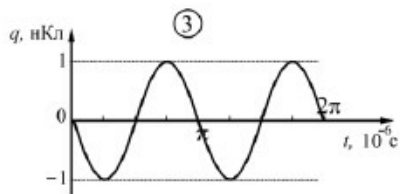
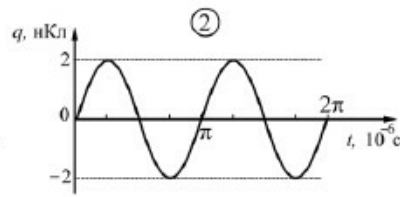
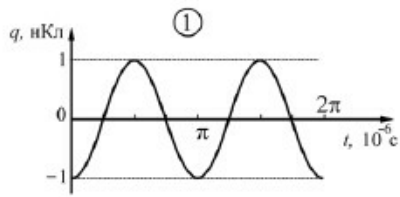
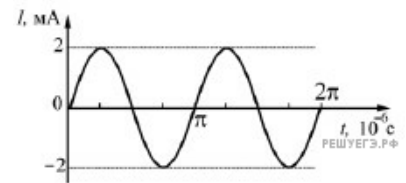


В идеальном колебательном контуре происходят свободные электромагнитные колебания. Зависимость силы тока I в катушке от времени t для данного контура приведена на рисунке. На каком из следующих рисунков правильно изображена зависимость заряда q конденсатора от времени?



- 1) 1
- 2) 2
- 3) 3
- 4) 4