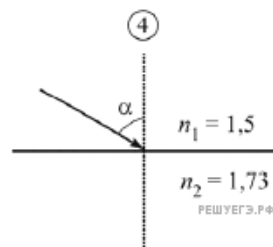
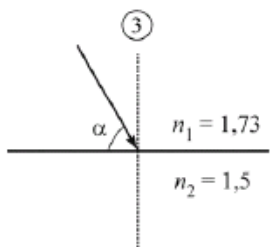
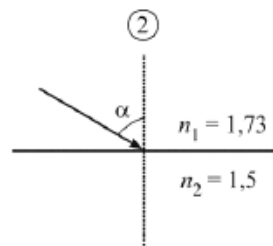
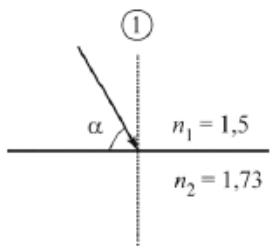


Известно, что для двух сред с некоторыми показателями преломления n_1 и n_2 явление полного внутреннего отражения на их границе начинает наблюдаться при угле падения света $\alpha = 60^\circ$. Какой из рисунков соответствует этому?



РЕШУ ЕГЭ.РФ