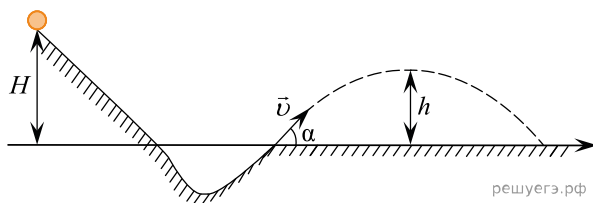


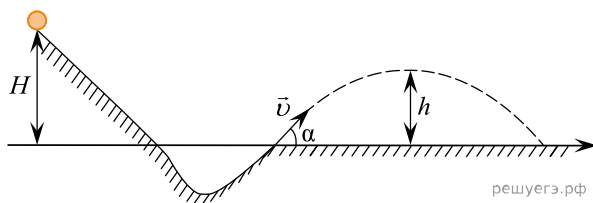
1. При выполнении трюка «Летающий велосипедист» гонщик движется по трамплину под действием силы тяжести, начиная движение из состояния покоя с высоты H (см. рис.).



На краю трамплина скорость гонщика направлена под углом $\alpha = 30^\circ$ к горизонту. Пролетев по воздуху, гонщик приземляется на горизонтальный стол, находящийся на той же высоте, что и край трамплина. Какова высота полета h на этом трамплине? Сопротивлением воздуха и трением пренебречь.

Какие законы Вы используете для описания гонщика по трамплину? Обоснуйте их применение к данному случаю.

2. При выполнении трюка «Летающий велосипедист» гонщик движется по трамплину под действием силы тяжести, начиная движение из состояния покоя с высоты H (см. рис.).

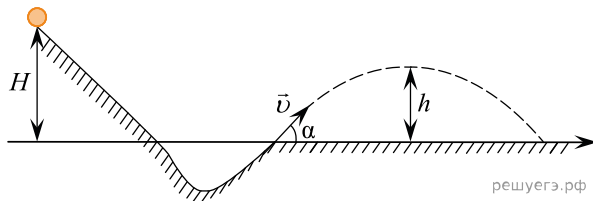


На краю трамплина скорость гонщика направлена под углом $\alpha = 30^\circ$ к горизонту. Пролетев по воздуху, гонщик приземляется на горизонтальный стол, находящийся на той же высоте, что и край трамплина. Какова дальность полета L на этом трамплине? Сопротивлением воздуха и трением пренебречь.

Какие законы Вы используете для описания движения гонщика по трамплину? Обоснуйте их применение к данному случаю.

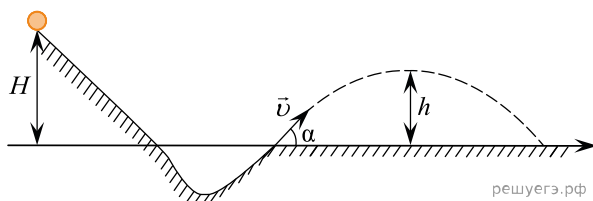
3. При выполнении трюка «Летающий велосипедист» гонщик движется по гладкому трамплину под действием силы тяжести, начиная движение из состояния покоя с высоты H (см. рис.). На краю трамплина скорость гонщика направлена под углом $\alpha = 60^\circ$ к горизонту. Пролетев по воздуху, он приземляется на горизонтальный стол, находящийся на той же высоте, что и край трамплина. Какова максимально возможная высота полета гонщика?

Какие законы Вы используете для описания гонщика по трамплину? Обоснуйте их применение к данному случаю.



4. При выполнении трюка «Летающий велосипедист» гонщик движется по гладкому трамплину под действием силы тяжести, начиная движение из состояния покоя с некоторой высоты (см. рис.). На краю трамплина скорость гонщика направлена под углом $\alpha = 60^\circ$ к горизонту. Пролетев по воздуху, он приземлился на горизонтальный стол на той же высоте, что и край трамплина. Дальность полета гонщика равна S . На какой высоте H над краем трамплина находится стартовая точка?

Какие законы Вы используете для описания гонщика по трамплину? Обоснуйте их применение к данному случаю.



5. При выполнении трюка «Летающий велосипедист» гонщик движется по гладкому трамплину под действием силы тяжести, начиная движение из состояния покоя с некоторой высоты (см. рис.). На краю трамплина скорость гонщика направлена под углом $\alpha = 60^\circ$ к горизонту. Пролетев по воздуху, он приземляется на горизонтальный стол, поднявшись в полете на высоту h над краем трамплина. С какой высоты H начинал движение гонщик?

Какие законы Вы используете для описания гонщика по трамплину? Обоснуйте их применение к данному случаю.

