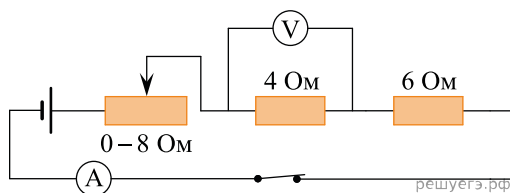
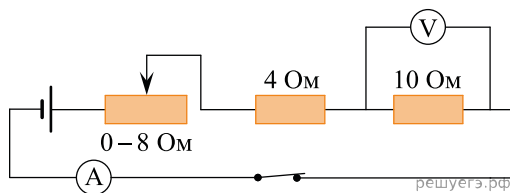


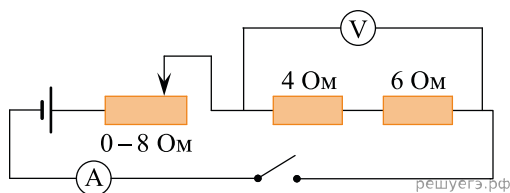
1. На рисунке представлена электрическая цепь. Вольтметр показывает напряжение 2 В. Какую силу тока показывает амперметр? *Ответ выразите в амперах. Амперметр и вольтметр считайте идеальными.*



2. На рисунке представлена электрическая цепь. Вольтметр показывает напряжение 2 В. Какую силу тока показывает амперметр? *Ответ выразите в амперах. Амперметр и вольтметр считайте идеальными.*



3. На рисунке представлена электрическая цепь. При замыкании ключа вольтметр показывает напряжение 12 В. Какую силу тока показывает амперметр? *(Ответ выразите в амперах. Амперметр и вольтметр считайте идеальными.)*



4. На рисунке представлена электрическая цепь. Вольтметр показывает напряжение 12 В. Какую силу тока показывает амперметр? *(Ответ выразите в амперах. Амперметр и вольтметр считайте идеальными.)*

