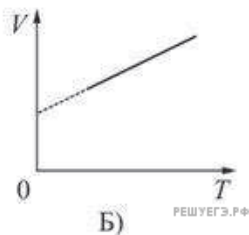
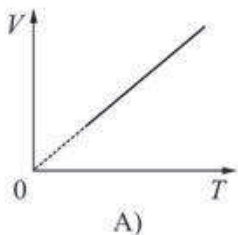
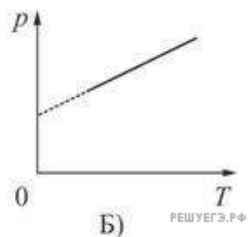
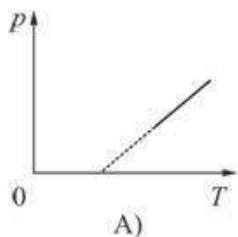


1. Два ученика, желая привести примеры изобарного процесса, изобразили графики зависимости объема V идеального газа от его абсолютной температуры T . Эти графики показаны на рисунках А) и Б). Какой из рисунков является правильным?



- 1) только А)
- 2) только Б)
- 3) и А), и Б)
- 4) ни А), ни Б)

2. Два ученика, желая привести примеры изохорного процесса, изобразили графики зависимости давления p идеального газа от его абсолютной температуры T . Эти графики показаны на рисунках А) и Б). Какой из рисунков является правильным?



- 1) только А)
- 2) только Б)
- 3) и А), и Б)
- 4) ни А), ни Б)