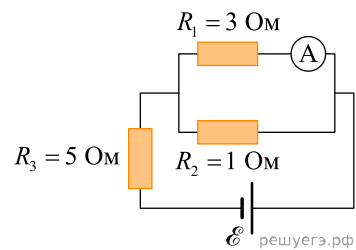
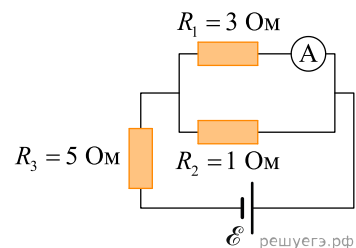


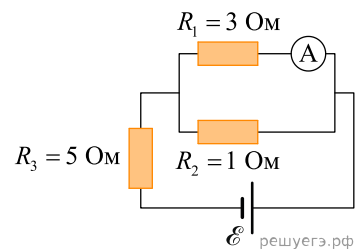
1. В цепи, изображенной на рисунке, идеальный амперметр показывает 1 А. Найдите ЭДС источника, если его внутреннее сопротивление 1 Ом.



2. В цепи, изображенной на рисунке, идеальный амперметр показывает 1 А. Найдите напряжение на резисторе  $R_3$ .



3. В цепи, изображенной на рисунке, идеальный амперметр показывает 1 А. Найдите ток через резистор  $R_3$ .



4. В цепи, изображенной на рисунке, идеальный амперметр показывает 8 А. Найдите ток через резистор  $R_2$ .

