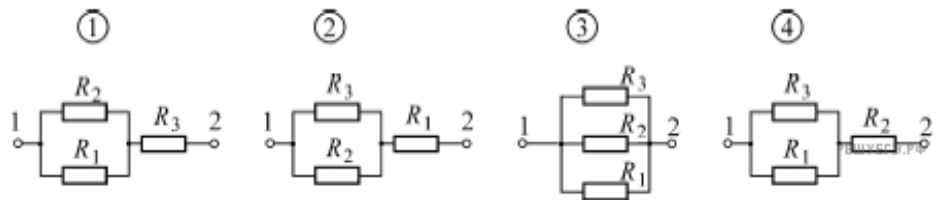
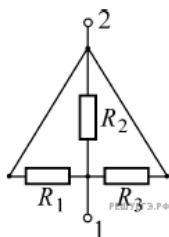
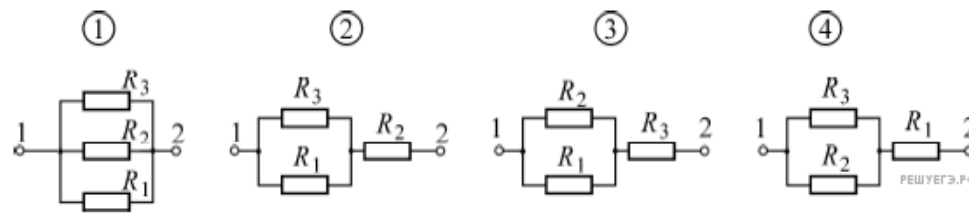
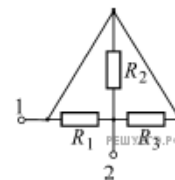


1. На рисунке изображена схема участка электрической цепи, состоящего из трех резисторов R_1 , R_2 , R_3 . На каком из следующих рисунков приведена электрическая схема этого участка цепи, эквивалентная заданной?



- 1) 1
- 2) 2
- 3) 3
- 4) 4

2. На рисунке изображена схема участка электрической цепи, состоящего из трех резисторов R_1 , R_2 , R_3 . На каком из следующих рисунков приведена электрическая схема этого участка цепи, эквивалентная заданной?



- 1) 1
- 2) 2
- 3) 3
- 4) 4