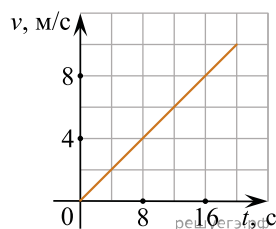
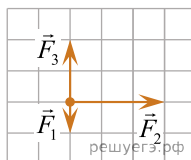


1. Скорость автомобиля массой 1000 кг, движущегося вдоль оси Ox , изменяется со временем в соответствии с графиком (см. рис.). Систему отсчета считать инерциальной. Чему равна равнодействующая всех сил, действующих на автомобиль? (Ответ дайте в ньютонах.)



2. На тело, находящееся на горизонтальной плоскости, действуют три горизонтальные силы (см. рис., вид сверху). Каков модуль равнодействующей этих сил, если $F_1 = 1$ Н. (Ответ дайте в ньютонах и округлите до десятых.)

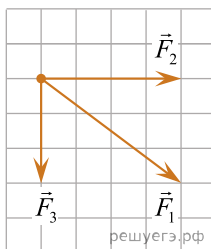


3. Две силы 3 Н и 4 Н приложены к одной точке тела, угол между векторами сил равен 90° . Чему равен модуль равнодействующей сил? (Ответ дайте в ньютонах.)

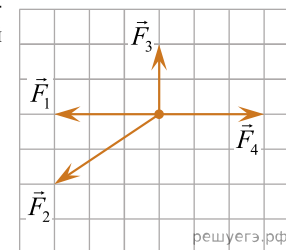
4. Под действием одной силы F_1 тело движется с ускорением 4 м/с^2 . Под действием другой силы F_2 , направленной противоположно силе F_1 , ускорение тела равно 3 м/с^2 . С каким ускорением тело будет двигаться при одновременном действии сил F_1 и F_2 ? Ответ дайте в метрах на секунду в квадрате.

5. Тело подвешено на двух нитях и находится в равновесии. Угол между нитями равен 90° , а силы натяжения нитей равны 3 Н и 4 Н. Чему равна сила тяжести, действующая на тело? (Ответ дайте в ньютонах.)

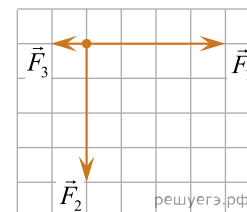
6. На рисунке представлены три вектора сил, лежащих в одной плоскости и приложенных к одной точке. Масштаб рисунка таков, что сторона одного квадрата сетки соответствует модулю силы 1 Н. Определите модуль вектора равнодействующей трех векторов сил. (Ответ дайте в ньютонах.)



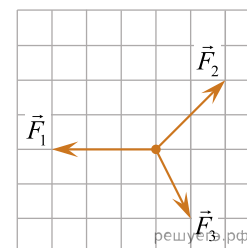
7. На рисунке представлены четыре вектора сил. Модуль вектора силы F_1 равен 3 Н. Чему равен модуль равнодействующей векторов F_1 , F_2 , F_3 и F_4 ? (Ответ дайте в ньютонах.)



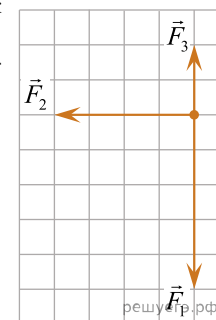
8. На рисунке представлены три вектора сил, приложенных к одной точке и лежащих в одной плоскости. Модуль вектора силы F_1 равен 4 Н. Чему равен модуль равнодействующей векторов F_1 , F_2 и F_3 ? (Ответ дайте в ньютонах.)



9. На рисунке представлены три вектора сил, приложенных к одной точке и лежащих в одной плоскости. Модуль вектора силы F_1 равен 3 Н. Чему равен модуль равнодействующей векторов F_1 , F_2 и F_3 ? (Ответ дайте в ньютонах.)



10. На рисунке представлены три вектора сил, приложенных к одной точке и лежащих в одной плоскости. Модуль вектора силы F_1 равен 5 Н. Чему равен модуль равнодействующей векторов F_1 , F_2 и F_3 ? (Ответ дайте в ньютонах.)

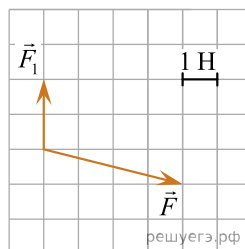


11. Тело массой 6 кг движется вдоль оси Ox . В таблице приведена зависимость проекции скорости v_x этого тела от времени t .

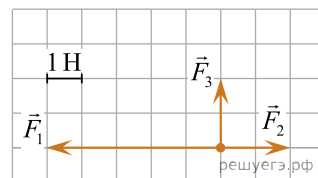
$t, \text{с}$	1	1,5	2	2,5	3
$v_x, \text{м/с}$	2	3	4	5	6

Считая равнодействующую всех сил, приложенных к телу, постоянной, определите, чему равна проекция этой равнодействующей на ось Ox . (Ответ дайте в ньютонах.)

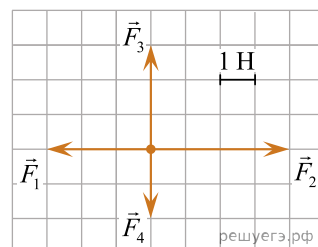
12. На тело действуют две силы: \vec{F}_1 и \vec{F}_2 . По силе \vec{F}_1 и равнодействующей двух сил $\vec{F} = \vec{F}_1 + \vec{F}_2$ найдите модуль второй силы (см. рис.). Ответ выразите в ньютонах и округлите до целого числа.



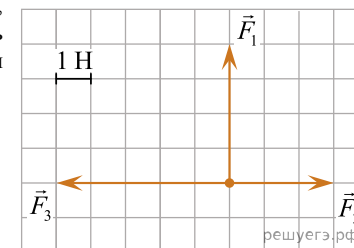
13. На рисунке показаны силы, действующие на материальную точку. Определите модуль равнодействующей силы (в заданном масштабе). (Ответ дайте в ньютонах и округлите до десятых.)



14. На рисунке показаны силы (в заданном масштабе), действующие на материальную точку в инерциальной системе отсчета. Чему равен модуль равнодействующей этих сил в данной системе отсчета? (Ответ дайте в ньютонах и округлите до десятых.)



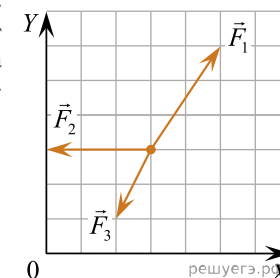
15. На рисунке показаны силы (в заданном масштабе), действующие на материальную точку. Чему равен модуль равнодействующей силы? (Ответ дайте в ньютонах и округлите до десятых.)



16. Небольшое тело массой 0,1 кг покоится на гладкой горизонтальной поверхности. На него одновременно начинают действовать две горизонтально направленные силы, модули которых равны 0,3 Н и 0,4 Н. Какое минимальное по модулю ускорение может приобрести это тело?

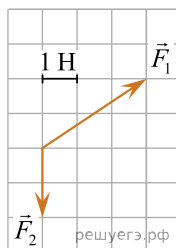
17. Тело массой 2 кг лежит на гладкой горизонтальной плоскости. В момент времени $t = 0$ к этому телу прикладывают две взаимно перпендикулярные силы \vec{F}_1 и \vec{F}_2 , направленные горизонтально, модули которых изменяются со временем t по законам $F_1 = 3t$ и $F_2 = 4t$, а направления не меняются. Определите модуль ускорения тела в момент времени $t = 4$ с. Ответ выразите в метрах на секунду в квадрате.

18. Точечное тело массой 0,5 кг находится на гладкой горизонтальной плоскости XOY . На это тело одновременно начинают действовать постоянные силы, векторы которых изображены на рисунке. Масштаб сетки на рисунке равен 1 Н. Чему равна проекция ускорения этого тела на ось OY ?

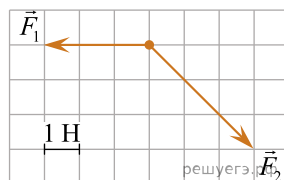


19. На тело массой 2 кг действует сила 60 Н. Найдите ускорение тела. Ответ дайте в метрах на секунду в квадрате.

20. На рисунке показаны силы (в заданном масштабе), действующие на материальную точку. Определите модуль равнодействующей этих сил. Ответ дайте в ньютонах.



21. На рисунке представлены два вектора сил, приложенных к одной точке и лежащих в одной плоскости. Чему равен модуль равнодействующей векторов \vec{F}_1 и \vec{F}_2 ? Ответ запишите в ньютонах.



22. Тело массой 2 кг движется вдоль оси Ox . На рисунке представлен график зависимости проекции v_x скорости этого тела от времени t . Чему равен модуль проекции силы F_x , действующей на этой тело в течение первой секунды? Ответ запишите в ньютонах.

