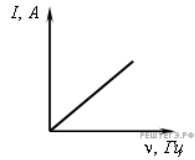


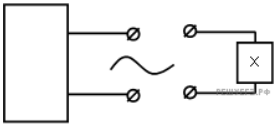
1. Число витков в первичной обмотке трансформатора в 2 раза больше числа витков в его вторичной обмотке. Какова амплитуда колебаний напряжения на концах вторичной обмотки трансформатора в режиме холостого хода при амплитуде колебаний напряжения на концах первичной обмотки 50 В? (Ответ дать в вольтах.)

2. Если, при подключении неизвестного элемента электрической цепи к выходу генератора переменного тока с изменяемой частотой гармонических колебаний при неизменной амплитуде колебаний напряжения, обнаружена зависимость амплитуды колебаний силы тока от частоты, представленная на рисунке, то этот элемент электрической цепи является

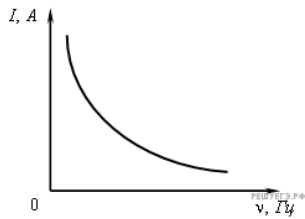
- 1) активным сопротивлением
- 2) конденсатором
- 3) катушкой
- 4) последовательно соединенными конденсатором и катушкой



3. Если, при подключении неизвестного элемента электрической цепи к выходу генератора переменного тока с изменяемой частотой гармонических колебаний при неизменной амплитуде колебаний напряжения,

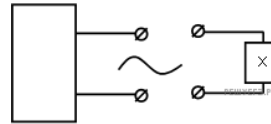


обнаружена зависимость амплитуды колебаний силы тока от частоты, представленная на рисунке, то этот элемент электрической цепи является

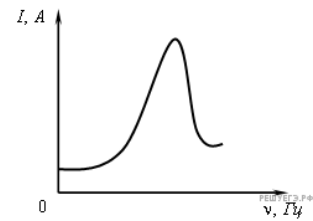


- 1) активным сопротивлением
- 2) конденсатором
- 3) катушкой
- 4) последовательно соединенными конденсатором и катушкой

4. Если, при подключении неизвестного элемента электрической цепи к выходу генератора переменного тока с изменяемой частотой гармонических колебаний при неизменной амплитуде колебаний напряжения,

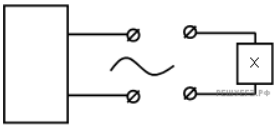


обнаружена зависимость амплитуды колебаний силы тока от частоты, представленная на рисунке, то этот элемент электрической цепи является

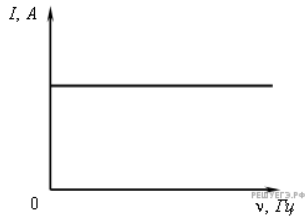


- 1) активным сопротивлением
- 2) конденсатором
- 3) катушкой
- 4) последовательно соединенными конденсатором и катушкой

5. Если, при подключении неизвестного элемента электрической цепи к выходу генератора переменного тока с изменяемой частотой гармонических колебаний при неизменной амплитуде колебаний напряжения,



обнаружена зависимость амплитуды колебаний силы тока от частоты, представленная на рисунке, то этот элемент электрической цепи является



- 1) активным сопротивлением
- 2) конденсатором
- 3) катушкой
- 4) последовательно соединенными конденсатором и катушкой

6. Как изменится индуктивное сопротивление катушки при уменьшении частоты переменного тока в 4 раза?

- 1) не изменится
- 2) увеличится в 4 раза
- 3) уменьшится в 2 раза
- 4) уменьшится в 4 раза

7. Число витков в первичной обмотке трансформатора в 2 раза меньше числа витков в его вторичной обмотке. Какова амплитуда колебаний напряжения на концах вторичной обмотки трансформатора в режиме холостого хода при амплитуде колебаний напряжения на концах первичной обмотки 50 В? (Ответ дать в вольтах.)

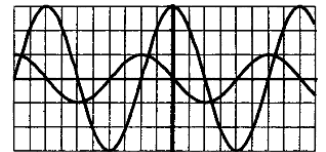
8. При увеличении частоты переменного тока в 4 раза индуктивное сопротивление катушки

- 1) не изменится
- 2) увеличится в 4 раза
- 3) уменьшится в 2 раза
- 4) уменьшится в 4 раза

9. По участку цепи с сопротивлением  $R$  течет переменный ток. Как изменится мощность переменного тока на этом участке цепи, если действующее значение силы тока на нем увеличить в 2 раза, а его сопротивление в 2 раза уменьшится?

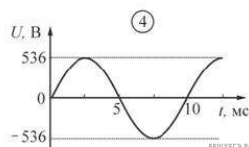
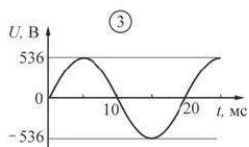
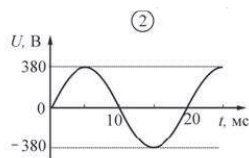
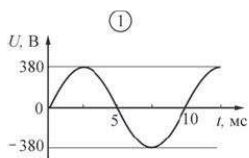
- 1) не изменится
- 2) увеличится в 2 раза
- 3) уменьшится в 3 раза
- 4) увеличится в 4 раза

10. На рисунке приведены осциллограммы напряжений на двух различных элементах электрической цепи переменного тока. Колебания этих напряжений имеют



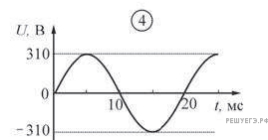
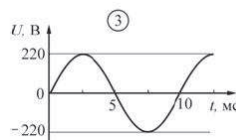
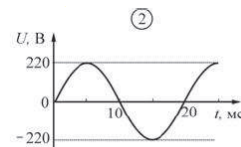
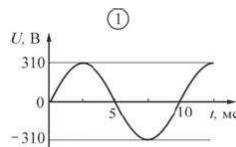
- 1) одинаковые периоды, но различные амплитуды
- 2) различные периоды, но одинаковые амплитуды
- 3) различные периоды и различные амплитуды
- 4) одинаковые периоды и одинаковые амплитуды

11. Какой из приведенных ниже графиков зависимости напряжения  $U$  от времени  $t$  соответствует промышленному переменному напряжению (частота 50 Гц, действующее значение напряжения  $(380 \pm 3)$  В)?



- 1) 1
- 2) 2
- 3) 3
- 4) 4

12. Какой из приведенных ниже графиков зависимости напряжения  $U$  от времени  $t$  соответствует промышленному переменному напряжению (частота 50 Гц, действующее значение напряжения  $(220 \pm 2)$  В)?



- 1) 1
- 2) 2
- 3) 3
- 4) 4

13. Для производства электрической энергии в промышленных целях используется

- 1) трансформатор
- 2) генератор
- 3) аккумулятор
- 4) стабилизатор

14. Для повышения электрического напряжения при передаче электрической энергии на большие расстояния используется

- 1) трансформатор
- 2) генератор
- 3) аккумулятор
- 4) стабилизатор