

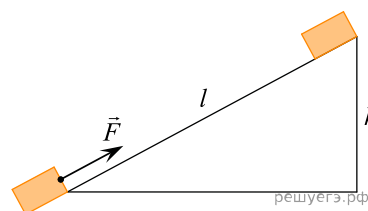
1. Ящик тянут по земле за веревку по горизонтальной окружности длиной $L = 40$ м с постоянной по модулю скоростью. Работа силы тяги за один оборот по окружности $A = 2,4$ кДж. Чему равен модуль силы трения, действующей на ящик со стороны земли? (Ответ дайте в ньютонах.)

2. Ящик тянут по земле за веревку по горизонтальной окружности длиной $L = 60$ м с постоянной по модулю скоростью. Работа силы тяги за один оборот по окружности $A = 3$ кДж. Чему равен модуль силы трения, действующей на ящик со стороны земли? (Ответ дайте в ньютонах.)

3. Ящик тянут по земле за веревку по горизонтальной окружности длиной $L = 40$ м с постоянной по модулю скоростью. Модуль силы трения, действующей на ящик со стороны земли равен 80 Н. Чему равна работа силы тяги за один оборот? (Ответ дайте в килоджоулях.)

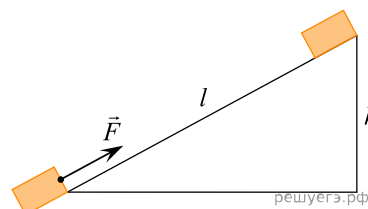
4. Ящик тянут по земле за веревку по горизонтальной окружности длиной $L = 70$ м с постоянной по модулю скоростью. Модуль силы трения, действующей на ящик со стороны земли, равен 50 Н. Чему равна работа силы тяги за один оборот? (Ответ дайте в килоджоулях.)

5. Тело массой 2 кг под действием силы F перемещается вверх по наклонной плоскости на расстояние $l = 5$ м, расстояние тела от поверхности Земли при этом увеличивается на $h = 3$ м. Вектор силы F направлен параллельно наклонной плоскости, модуль силы F равен 30 Н. Какую работу при этом перемещении в системе отсчета, связанной с наклонной плоскостью, совершила сила F ? (Ответ дайте в джоулях.) Ускорение свободного падения примите равным 10 м/с², коэффициент трения $\mu = 0,5$.



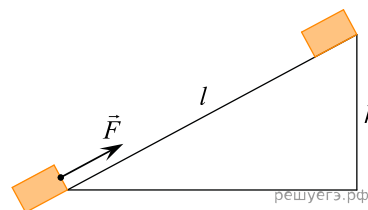
6. Тело массой 2 кг под действием силы F перемещается вверх по наклонной плоскости на расстояние $l = 5$ м, расстояние тела от поверхности Земли при этом увеличивается на $h = 3$ м.

Вектор силы F направлен параллельно наклонной плоскости, модуль силы F равен 30 Н. Какую работу при этом перемещении совершила сила тяжести? (Ответ дайте в джоулях.) Ускорение свободного падения примите равным 10 м/с², коэффициент трения $\mu = 0,5$.

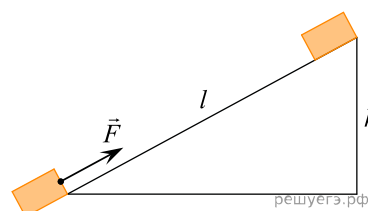


7. Тело массой 2 кг под действием силы F перемещается вверх по наклонной плоскости на расстояние $l = 5$ м, расстояние тела от поверхности Земли при этом увеличивается на $h = 3$ м.

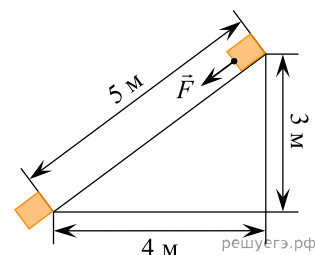
Вектор силы F направлен параллельно наклонной плоскости, модуль силы F равен 30 Н. Какую работу при этом перемещении совершила сила F против действия силы трения? (Ответ дайте в джоулях.) Ускорение свободного падения примите равным 10 м/с², коэффициент трения $\mu = 0,5$.



8. Тело массой 2 кг под действием силы F перемещается вверх по наклонной плоскости на расстояние 5 м, расстояние тела от поверхности Земли при этом увеличивается на 3 м. Вектор силы F направлен параллельно наклонной плоскости, модуль силы F равен 30 Н. Какую работу при этом перемещении в системе отсчета, связанной с наклонной плоскостью, совершила сила трения? (Ответ дайте в джоулях.) Ускорение свободного падения 10 м/с², коэффициент трения $\mu = 0,5$.

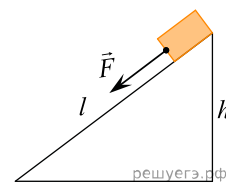


9. Тело массой 3 кг под действием силы F перемещается вниз по наклонной плоскости на расстояние $l = 5$ м, расстояние тела от поверхности Земли при этом уменьшается на $h = 3$ м. Вектор силы F направлен параллельно наклонной плоскости, модуль силы F равен 20 Н. Какую работу при этом перемещении в системе отсчета, связанной с наклонной плоскостью, совершила сила F ? (Ответ дайте в джоулях.) Ускорение свободного падения примите равным 10 м/с², коэффициент трения $\mu = 0,5$.

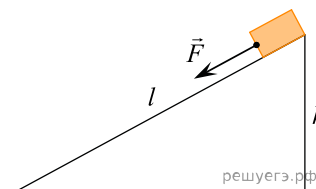


10. Тело массой 3 кг под действием силы F перемещается вниз по наклонной плоскости на расстояние $l = 5$ м, расстояние тела от поверхности Земли при этом уменьшается на $h = 3$ м.

Вектор силы F направлен параллельно наклонной плоскости, модуль силы F равен 20 Н. Какую работу при этом перемещении совершила сила тяжести? (Ответ дайте в джоулях.) Ускорение свободного падения примите равным 10 м/с^2 , коэффициент трения $\mu = 0,5$.



11. Тело массой 3 кг под действием силы F перемещается вниз по наклонной плоскости на расстояние $l = 5$ м, расстояние тела от поверхности Земли при этом уменьшается на $h = 3$ м. Вектор силы F направлен параллельно наклонной плоскости, модуль силы F равен 20 Н. Какую работу при этом перемещении в системе отсчета, связанной с наклонной плоскостью, совершила сила трения? (Ответ дайте в джоулях.) Ускорение свободного падения примите равным 10 м/с^2 , коэффициент трения $\mu = 0,5$.



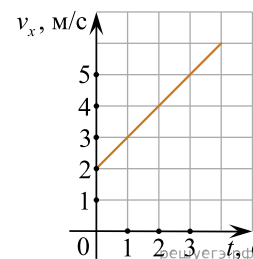
12. Лебедка равномерно поднимает груз массой 200 кг на высоту 3 м за 5 с. Какова мощность двигателя лебедки? (Ответ дайте в ваттах.) Ускорение свободного падения примите равным 10 м/с^2 .

13. Человек взялся за конец лежащего на земле однородного стержня длиной 2 м и массой 100 кг и поднял этот конец на высоту 1 м. Какую работу он совершил? (Ответ дайте в джоулях.) Ускорение свободного падения примите равным 10 м/с^2 .

14. Под действием силы тяги в 1000 Н автомобиль движется с постоянной скоростью 72 км/ч. Какова мощность двигателя? (Ответ дайте в киловаттах.)

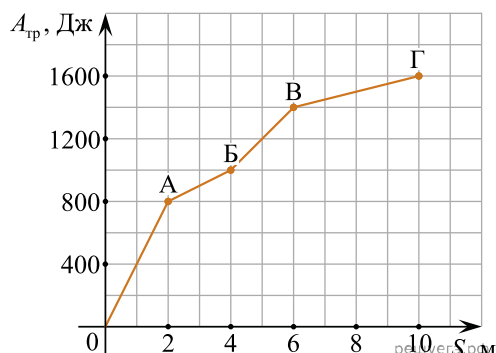
15. Какую мощность развивает двигатель подъемного механизма крана, если он равномерно поднимает плиту массой 600 кг на высоту 4 м за 3 с? (Ответ дайте в киловаттах.) Ускорение свободного падения примите равным 10 м/с^2 .

16. Тело движется вдоль оси Ox под действием силы $F = 2$ Н, направленной вдоль этой оси. На рисунке приведен график зависимости проекции скорости v_x тела на эту ось от времени t . Какую мощность развивает эта сила в момент времени $t = 3$ с? (Ответ дайте в ваттах.)



17. Механическая энергия системы изменилась от величины 5 Дж до величины -3 (минус 3) Дж. Это означает, что на данную механическую систему действовали внешние силы. Какова работа этих сил? (Ответ дайте в джоулях.)

18. Сани равномерно перемещают по горизонтальной плоскости с переменным коэффициентом трения. На рисунке изображен график зависимости модуля работы силы $A_{\text{тр}}$ от пройденного пути S .



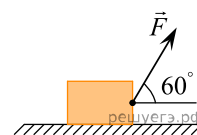
Каково отношение максимального коэффициента трения к минимальному на пройденном пути?

19. Небольшое тело массой 200 г свободно соскальзывает вниз по гладкой наклонной плоскости вдоль оси Ox . В таблице приведена зависимость проекции v_x скорости этого тела от времени t . Какую работу совершит сила тяжести к моменту, к которому тело пройдет путь 1 м? (Ответ дайте в джоулях.)

$t, \text{ с}$	0	1	2	3	4
$v_x, \text{ м/с}$	0	0,5	1	1,5	2

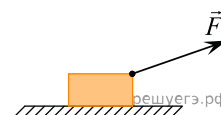
20. Телу массой 0,2 кг сообщили вертикально направленную начальную скорость 10 м/с. Пренебрегая сопротивлением воздуха, определите модуль средней мощности силы тяжести, действовавшей на тело во время подъема до максимальной высоты. (Ответ дайте в ваттах.) Ускорение свободного падения считать равным 10 м/с².

21. Брусок массой 5 кг равномерно перемещают по горизонтальной поверхности со скоростью 1 м/с, прикладывая к нему постоянную силу 4 Н, направленную под углом 60° к горизонту. Чему равна мощность силы F ? (Ответ дайте в ваттах.)

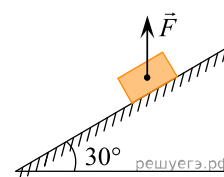


22. Телу массой 2 кг, находящемуся у основания шероховатой наклонной плоскости, сообщили начальную скорость 3 м/с в направлении вверх вдоль наклонной плоскости. Через некоторое время тело вернулось в исходную точку, имея втрое меньшую кинетическую энергию. Какую работу совершила сила трения за время движения тела? (Ответ дайте в джоулях.)

23. Тело тащат по шероховатой горизонтальной поверхности с постоянной скоростью \vec{V} , модуль которой равен 0,5 м/с, прикладывая к нему силу \vec{F} так, как показано на рисунке. При этом модуль действующей на тело силы трения скольжения равен 18 Н. Чему равна мощность, развиваемая силой \vec{F} ? Ответ выразите в ваттах.



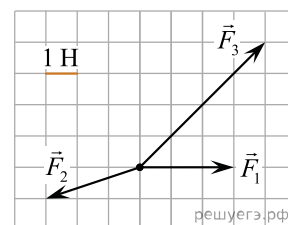
24. Брусок массой 2 кг, к которому приложена сила 4 Н, направленная вертикально вверх, равномерно движется вниз по шероховатой наклонной плоскости с углом при основании 30°. Чему равен модуль работы, которую совершит над бруском сила трения при перемещении бруска на 1 м?



25. К телу массой 5 кг, покоящемуся на шероховатой горизонтальной плоскости, в момент времени $t = 0$ прикладывают горизонтально направленную силу 5 Н. Коэффициент трения между поверхностью тела и плоскостью равен 0,2. Чему равна работа, совершаемая этой силой за первые 10 минут ее действия?

26. Тело массой 1 кг свободно падает на землю с высоты 20 м. Какую среднюю мощность развивает сила тяжести за время падения тела?

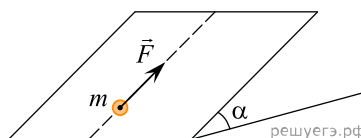
27. На точечное тело, покоившееся на горизонтальной поверхности, одновременно начинают действовать три постоянные горизонтально направленные силы \vec{F}_1 , \vec{F}_2 и \vec{F}_3 как показано на рисунке. В результате этого тело начинает двигаться. Какую работу совершит равнодействующая этих сил при перемещении тела на расстояние 2 м?



28. Подъемный кран равномерно поднимает груз массой 1000 кг. В таблице приведена зависимость высоты h этого груза над землей от времени подъема t . Какую мощность развивает кран при поднятии груза? Ответ дайте в киловаттах.

h, м	2	4	6	8
t, с	5	10	15	20

29. Точечное тело массой $m = 1$ кг начинают поднимать вдоль гладкой наклонной плоскости, действуя на него постоянной силой $F = 8$ Н. Наклонная плоскость составляет с горизонтом угол $\alpha = 30^\circ$. Приложенная к телу сила направлена параллельно наклонной плоскости вдоль «линии стекания воды» (эта линия показана на рисунке пунктиром). Чему равно изменение полной механической энергии данного тела при его перемещении на 4 метра вдоль этой линии? Ответ дайте в Джоулях.



30. При равномерном перемещении саней по горизонтальному участку пути длиной 50 м сила тяги совершает работу, величина которой равна 1000 Дж. Какова сила трения? Ответ дайте в Ньютонах.

31. Покоившееся тело массой 4 кг начало двигаться вдоль прямой под действием силы, которая в течение 5 секунд развивала среднюю мощность 10 Вт. Какую скорость в результате приобрело это тело, если другие силы работы не совершали? *Ответ дайте в метрах в секунду.*
32. Покоившееся тело массой 20 кг начало двигаться вдоль прямой под действием силы, которая в течение 6 секунд развивала среднюю мощность 15 Вт. Какую скорость в результате приобрело это тело, если другие силы работы не совершали? *Ответ дайте в метрах в секунду.*
33. Слон поднимает бревно массой 200 кг на высоту 4 м за 8 с. Какую среднюю полезную мощность развивает при этом животное? *Ответ запишите в ваттах.*
34. Вьючный осел, идущий по горной тропе, поднимает тюк массой 30 кг на высоту 120 м за 2 часа. Какую среднюю полезную мощность развивает при этом животное? *Ответ запишите в ваттах.*
35. Отец везет сына на санках с постоянной скоростью по горизонтальной заснеженной дороге. Модуль силы трения санок о снег равен 35 Н. Отец совершил механическую работу, равную 7000 Дж. Определите пройденный путь. *Ответ запишите в метрах.*
36. Маленький кубик массой 100 г двигают по поверхности шероховатой горки, поднимая его на высоту 30 см. Какую работу при этом совершает сила тяжести, действующая на кубик? Ответ дайте с учетом знака. *Ответ запишите в джоулях.*
37. Тело массой 0,1 кг, подвешенное на нити длиной 1 м, вращается, двигаясь в горизонтальной плоскости по окружности. Чему равна работа, которую совершает сила тяжести, действующая на это тело, за время его полного оборота? *Ответ запишите в Джоулях.*
38. Человек, равномерно поднимая подвешенное на верёвке ведро с водой, достал его из колодца глубиной 6 м. Масса ведра 1,5 кг, масса воды в ведре 12 кг. Какую работу при этом совершил человек? Массой верёвки пренебречь. *Ответ запишите в джоулях.*
39. При равномерном прямолинейном перемещении саней по горизонтальному участку пути на 50 м постоянная горизонтально направленная сила тяги совершает работу 500 Дж. Какова сила трения? *Ответ запишите в ньютонах.*